

ТЕСТ ІЗ ГЕОГРАФІЇ

Час виконання – 120 хвилин

Тест складається з 60 завдань різних форм. Відповіді на завдання 1–60 Ви маєте позначити в бланку *A*. Правила виконання подано перед завданнями кожної нової форми.

Інструкція щодо роботи в тестовому зошиті

1. Відповідайте тільки після того, як Ви уважно прочитали та зрозуміли завдання.
2. У разі необхідності використовуйте як чернетку вільні від тексту місця в зошиті.
3. Намагайтеся виконати всі завдання.

Інструкція щодо заповнення бланка відповідей *A*

1. До бланка записуйте лише правильні, на Вашу думку, відповіді.
2. Відповіді вписуйте чітко, дотримуючись вимог інструкції до кожної форми завдань.
3. Неправильно позначені, закреслені та підчищені відповіді в бланку *A* вважатимуться помилками.
4. Якщо Ви позначили відповідь неправильно, можете виправити її у відповідному місці бланку *A*.
5. Ваш результат залежатиме від загальної кількості правильних відповідей, записаних у бланку *A*.
6. Позначте номер Вашого зошита у відповідному місці бланку *A*.

Ознайомившись із інструкцією, перевірте якість друку зошита та кількість сторінок. Їх має бути 12.

Бажаємо Вам успіху!

Завдання 1 – 40 мають по чотири варіанти відповіді, серед яких лише один правильний. Виберіть, на Вашу думку, правильний варіант відповіді і позначте його в бланку А згідно з інструкцією. Не робіть інших позначок у бланку А тому, що комп'ютерна програма реєструватиме їх як помилки!

Будьте особливо уважні, заповнюючи бланк А!
Не погіршуйте власноручно свого результату неправильною формою запису відповідей

1. Укажіть твердження, що є визначенням поняття «географія».
А наука про склад, будову, властивості та перетворення речовин;
Б наука про загальний розвиток того чи іншого народу, країни або всього суспільства;
В наука про природу земної поверхні, розміщення населення та господарства;
Г наука про просторові відношення та форми реального світу.


 2. Укажіть напрямок обертання Землі навколо своєї осі.
А із заходу на схід;
Б із півдня на північ;
В зі сходу на захід;
Г залежить від пори року чи від часу доби.

 3. Визначте географічні координати точки S.
А 27° пд. ш. і 66° зх. д.;
Б 27° пд. ш. і 74° сх. д.;
В 33° пн. ш. і 66° сх. д.;
Г 33° пн. ш. і 74° зх. д.
-
4. Що є основним чинником утворення яру?
А робота вітру;
Б робота текучих вод;
В вплив льодовика;
Г вулканізм і землетруси.

 5. Якому поняттю відповідає визначення: «стадія щорічного водного режиму річок, який характеризується найбільшою водністю, високим і тривалим підняттям рівня води, що супроводжується затопленням заплави»?
А повінь;
Б паводок;
В межень;
Г приплив.

 6. Які ґрунти є найбільш поширеними в зоні лісостепів помірного поясу?
А коричневі та сіро-коричневі ксерофітних лісів і чагарникових степів;
Б чорноземи;
В дерново-підзолисті;
Г бурі лісові.

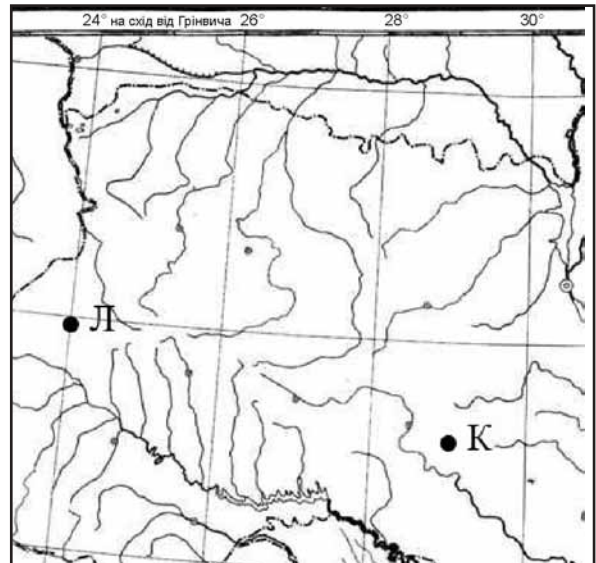
7. Що сприяє розвитку «парникового ефекту»?
- А збільшення кількості вуглекислого газу в атмосфері;
 - Б зменшення товщини озонового шару в стратосфері;
 - В зменшення кількості кисню в нижньому шарі тропосфери;
 - Г збільшення кількості азоту в атмосфері.
8. Укажіть течію, що переміщується над Південноатлантичним, Західноіндійським хребтами та Східнотихоокеанським підняттям.
- А Гольфстрім;
 - Б Західних вітрів;
 - В Північна пасатна;
 - Г Куросію.
9. Визначте **неправильне** твердження про природу материка.
- А Африка – серед форм рельєфу переважають плоскогір'я;
 - Б Антарктида – найбільшим хижаком є білий ведмідь;
 - В Євразія – омивається морями чотирьох океанів;
 - Г Австралія – немає діючих вулканів.
10. Для якої природної країни Євразії характерні мусонні ліси.
- А Фенноскандія;
 - Б Східна Азія;
 - В Балканський півострів;
 - Г Західна Азія.
11. Укажіть озеро, що є стічним.
- А Аральське море;
 - Б Ейр;
 - В Ері;
 - Г Чад.
12. Укажіть правильне твердження про населення материка Австралія.
- А темпи природного приросту населення більші, ніж в Південній Америці;
 - Б найвищий рівень урбанізації серед усіх материків;
 - В корінне населення належить до австралоїдної гілки монголоїдної раси;
 - Г аборигени становлять 20% населення материка.
13. На фрагменті космічного знімка Середземномор'я буквами позначені чотири райони. Оберіть букву (А, Б, В чи Г), якою позначений район найінтенсивнішого зрошувального землеробства.



14. На якому материку засновано заповідники: Ноатак, Долина Смерті, Великий Каньйон.
А Північна Америка;
Б Євразія;
В Австралія;
Г Південна Америка.

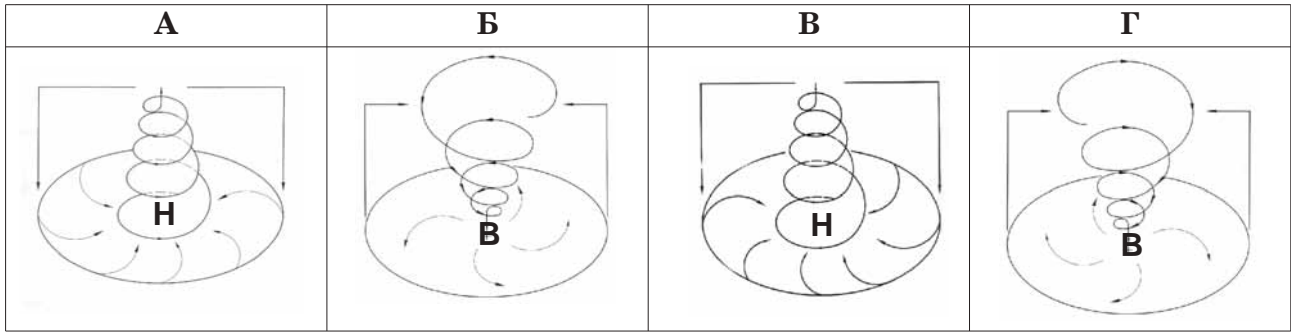
15. Із якою країною Україна має морську ділянку державного кордону.
А Болгарія;
Б Грузія;
В Румунія;
Г Туреччина.

16. Розгляньте картосхему. Визначте місцевий час у пункті Л, якщо в пункті К за місцевим часом у цей момент 11 година 04 хвилини.
А 10 год 44 хв;
Б 11 год 24 хв;
В 10 год 59 хв;
Г 11 год 09 хв.



17. На якій платформі розташований Український кристалічний щит?
А Західноєвропейська;
Б Східноєвропейська;
В Сибірська;
Г Скіфська.
18. До якої ери відноситься антропогеновий геологічний період?
А протерозойська;
Б палеозойська;
В мезозойська;
Г кайнозойська.
19. Яким умовним знаком на карті позначають родовища: Бориславське, Бугруватівське, Долинське.
А ▲
Б ■
В ▲
Г □
20. Знайдіть **неправильне** твердження щодо використання метеорологічного приладу.
А термометром вимірюють температуру повітря;
Б барометром вимірюють випаровуваність;
В флюгером визначають напрямок і силу вітру;
Г гігрометром вимірюють вологість повітря.

21. Розгляньте схеми. Визначте, яка із них відображає процес, що формує в Україні взимку мінливу вітряну погоду з відлигами і опадами.



22. До басейну якої річки відносяться притоки Тетерів, Рось, Псел, Інгулець?

- А Дністер;
- Б Дунай;
- В Дон;
- Г Дніпро.

23. Укажіть форму організації виробництва, що має визначення: «*поєднання на одному підприємстві всіх стадій переробки певної сировини, що забезпечує мало- або безвідходність виробництва*».

- А кооперування;
- Б спеціалізація;
- В концентрація;
- Г комбінування.

24. Визначте правильний варіант ланцюга (*галузь → підприємство → основний чинник розміщення підприємства*) для столиці України:

- А харчова промисловість → кондитерська фабрика «Світоч» → вода;
- Б машинобудування → авіазавод КНТК «Антонов» → кваліфіковані кадри;
- В лісова промисловість → швейна фабрика «Каштан» → трудові ресурси;
- Г хіміко-фармацевтична промисловість → фармацевтична фірма «Дарниця» → вода.

25. Укажіть порт на Азовському морі.

- А Іллічівськ;
- Б Очаків;
- В Генічеськ;
- Г Феодосія.

26. Визначте, який із позначених буквами на картосхемі регіонів України за агрокліматичними умовами найбільш придатний для вирощування соняшника.

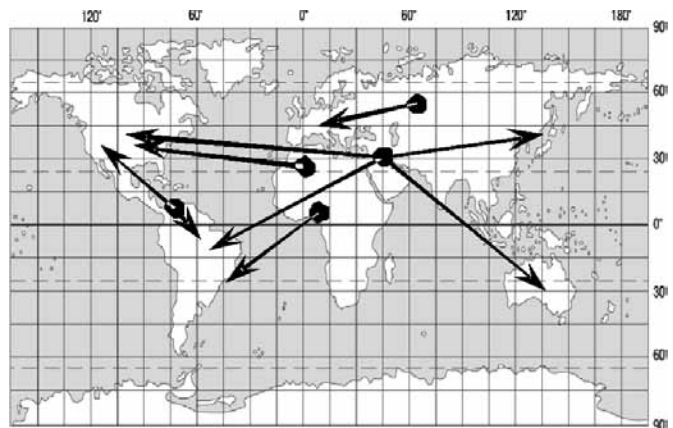


27. Укажіть варіант, де обидва виробництва є спеціалізацією Північно-Східного, Донецького та Придніпровського районів.
 А металообробка, лісозаготівля;
 Б тонкорунне вівчарство, виноградарство;
 В важке машинобудування, металургія;
 Г нафтопереробка, льонарство.
28. Визначте, які транспортні шляхи було прокладено між Львовом і Перемишлем у 1861 р. і між Одесою та Балтою в 1865 р.
 А судноплавні канали;
 Б залізничні колії;
 В трубопроводи;
 Г шосейні дороги.
29. Укажіть **неправильне** твердження щодо зовнішньоекономічних зв'язків України.
 А 10% імпорتنих витрат припадає на нафту та природний газ;
 Б основною часткою міжнародних послуг України є транспортні для країн СНД;
 В найбільше товарів експортується до Росії, Німеччини, Туреччини, Китаю;
 Г природно-історичний чинник відіграє значну роль у наданні туристичних послуг.
30. У якому рядку вказані міста України, що стали курортами завдяки лікувальним властивостям мінеральних джерел?
 А Макіївка, Охтирка, Шостка;
 Б Чугуїв, Черкаси, Чернівці;
 В Слов'янськ, Моршин, Саки;
 Г Джанкой, Ізмаїл, Маріуполь.
31. На фотографіях зображено визначні об'єкти чотирьох столиць країн світу. Укажіть об'єкт тієї столиці, яка за кількістю населення не є найбільшим містом у своїй країні.

А	Б	В	Г
			

32. Обчисліть, якою стала кількість населення 100-мільйонної країни через рік, якщо показники руху населення в цьому році були такими: народжуваність – 35 ‰, смертність – 18 ‰, еміграція – 3 ‰, імміграція – 1 ‰.
 А 100,5 млн осіб;
 Б 101,5 млн осіб;
 В 102,5 млн осіб;
 Г 103,5 млн осіб.
33. У якому рядку вказано країну, що не входить до складу ЄС?
 А Австрія, Швейцарія, ФРН;
 Б Греція, Італія, Фінляндія;
 В Швеція, Данія, Латвія;
 Г Болгарія, Угорщина, Польща.

34. Який регіон Росії спеціалізується на нафтовидобутку та нафтопереробці?
 А Східний Сибір;
 Б Західний Сибір;
 В Центральне Чорнозем'я;
 Г Північ Далекого Сходу.
35. Укажіть, завдяки якому чиннику хімічна промисловість США, Японії, ФРН знаходиться в авангарді світового господарства.
 А забезпеченість дешевою електроенергією;
 Б вигідне економіко-географічне положення;
 В забезпеченість різноманітною власною мінеральною сировиною;
 Г високий рівень науково-дослідної бази.
36. Визначте **неправильне** твердження щодо лідерства країни в Латинській Америці:
 А Чилі – за запасами мідної руди;
 Б Аргентина – за експортом зерна;
 В Бразилія – за виробництвом автомобілів;
 Г Еквадор – за імпортом бананів.
37. Країна, природні умови якої дозволяють вирощувати в промислових масштабах цукровий буряк і цукрову тростину:
 А Єгипет;
 Б Росія;
 В Франція;
 Г США.
38. У якому рядку вказані курорти Африки:
 А Баден-Баден, Карлові Вари, Балеарські острови;
 Б Анталія, Дубаї, Мальдівські острови;
 В Санта Барбара, Лас-Вегас, Гавайські острови;
 Г Хургада, Шарм-ель-Шейх, Сейшельські острови.
39. На картосхемі зображені головні напрямки міжнародних вантажо-потоків:
 А кам'яного вугілля;
 Б бокситів;
 В залізної руди;
 Г нафти.



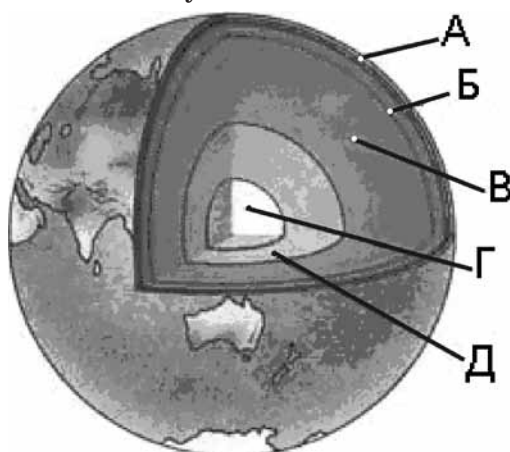
40. Укажіть державу, на території якої знаходяться визнані ЮНЕСКО об'єкти культурно-історичної спадщини: мавзолей Тадж-Махал, храм Сонця в Конараку.
 А Перу;
 Б Японія;
 В Австралія;
 Г Індія.

У завданнях 41 – 50 до кожного з чотирьох рядків інформації, позначених цифрами, виберіть один, на Вашу думку, правильний варіант, позначений буквою. Поставте позначки в таблиці зошита на перетині відповідних рядків (цифри) і колонок (букви). Перенесіть позначки до бланку А згідно з інструкцією. Усі інші види Вашого запису у бланку А комп'ютерна програма реєструватиме як помилку!

Будьте особливо уважні, заповнюючи бланк А!
Не погіршуйте власноручно свого результату неправильною формою запису відповідей

41. Установіть відповідність між шарами внутрішньої будови Землі та буквами, якими вони позначені на малюнку.

- 1 астеносфера;
- 2 земна кора;
- 3 внутрішнє ядро;
- 4 мантія.

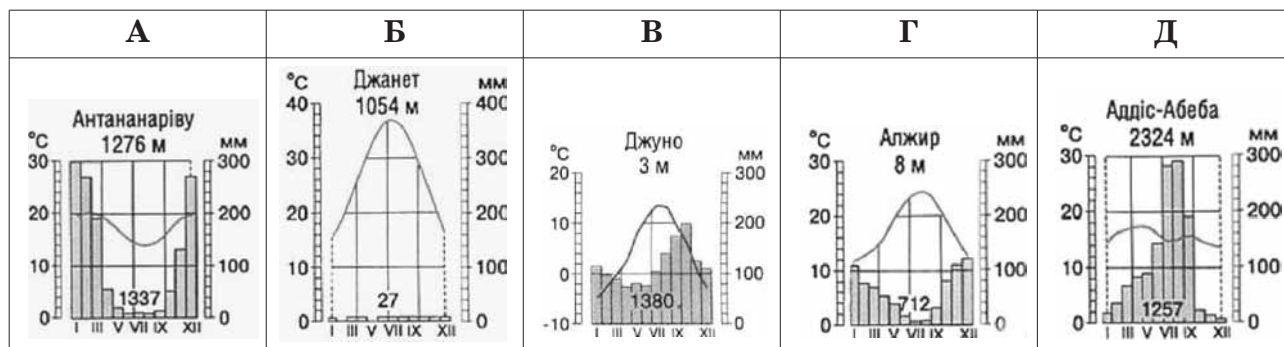


	А	Б	В	Г	Д
1					
2					
3					
4					

42. Установіть відповідність між типами клімату та кліматограмами.

- 1 субтропічний середземноморський Північної півкулі;
- 2 морський помірний Північної півкулі;
- 3 субекваторіальний Південної півкулі;
- 4 тропічний пустельний Північної півкулі.

	А	Б	В	Г	Д
1					
2					
3					
4					



43. Установіть відповідність між назвами творів, де подано географічний опис України, та часом їхнього написання.

- 1 «Географія» в 17-ти томах грецького мислителя Страбона;
- 2 «Труды этнографическо-статистической экспедиции въ Западно-Русскій край» у 7-ми томах етнографа Павла Чубинського;
- 3 «Українська географічна енциклопедія» в 3-х томах (за редакцією члена-кореспондента НАН України Олександра Маринича);
- 4 «Географія України і сумезних земель» картографу Володимира Кубійовича.

- А 1989 – 1993 рр.;
- Б 1872 – 1879 рр.;
- В 1932 р.;
- Г Х ст.;
- Д I ст. до н. е.

	А	Б	В	Г	Д
1					
2					
3					
4					

44. Знайдіть відповідність між рівнинами на території України та формами земної поверхні, що характерні для цих рівнин.

- | | |
|-----------------------------|------------------------------|
| 1 Поліська низовина; | А моренні горби; |
| 2 Придніпровська низовина; | Б конуси грязьових вулканів; |
| 3 Донецька височина; | В терикони; |
| 4 Причорноморська низовина. | Г поди, блюдця; |
| | Д соляні куполи. |

	А	Б	В	Г	Д
1					
2					
3					
4					

45. Розгляньте космічний знімок. Установіть відповідність між інформацією про певні акваторії (позначена цифрами), та акваторіями (позначені на космічному знімку буквами).

- біля берегів України влітку тут найтепліша вода, проте взимку море в цьому районі може замерзати;
- солоність води в цьому районі перевищує 18‰;
- шельфова зона тут вузька, глибини моря стрімко збільшуються неподалік від берега;
- червону водорість (філофору) збирають тут у великій кількості.



	А	Б	В	Г	Д
1					
2					
3					
4					

46. Установіть відповідність між національними меншинами України та районами їхнього компактного проживання, що позначені на картосхемі буквами.

- болгари;
- кримські татари;
- угорці;
- поляки.



	А	Б	В	Г	Д
1					
2					
3					
4					

47. Установіть відповідність між назвами атомних станцій та їхніми містами-супутниками.

- | | |
|-----------------------|------------------|
| 1 Хмельницька; | А Енергодар; |
| 2 Рівненська; | Б Южноукраїнськ; |
| 3 Запорізька; | В Кузнецовськ; |
| 4 Південноукраїнська. | Г Прип'ять; |
| | Д Нетішин. |

	А	Б	В	Г	Д
1					
2					
3					
4					

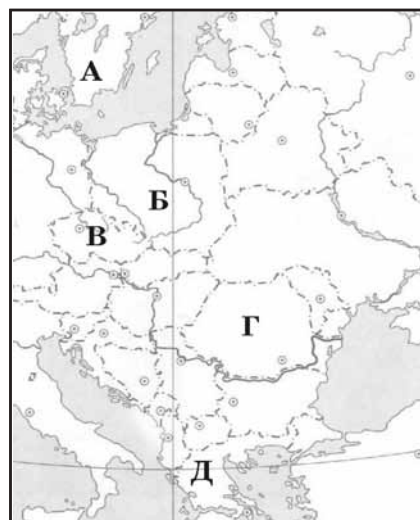
48. Установіть відповідність між областями України та туристськими об'єктами, розташованими в них.

- | | |
|----------------------|--------------------------|
| 1 Тернопільська; | А Святогірська лавра; |
| 2 Івано-Франківська; | Б Луцький замок; |
| 3 Черкаська; | В Дендропарк «Софіївка»; |
| 4 Волинська. | Г печера «Кришталева»; |
| | Д гора Говерла. |

	А	Б	В	Г	Д
1					
2					
3					
4					

49. Розгляньте картосхему. Установіть відповідність між інформацією, що характеризує ту чи іншу державу, та державою, що позначена на карті буквою.

- 1 населення країни утворює окрему групу індоєвропейської мовної сім'ї; панівною є православна віра; столиця – одне з найдавніших міст світу;
- 2 у країні переважає гірський рельєф; її територією протікає друга за довжиною річка Європи; 49% населення зайнято в промисловості;
- 3 країна – член ЄС, але не входить до НАТО; багата на лісові ресурси; виробляє автомобілі «Вольво»; населення мешкає переважно на півдні країни;
- 4 країна, населення якої становить 38,6 млн осіб; експортує вугілля, мідь, продукцію машинобудування й АПК; має значний товарообіг з Україною (>1 млрд доларів США).



	А	Б	В	Г	Д
1					
2					
3					
4					

50. Установіть відповідність між назвами міжнародних організацій та наведеними про них фактами.

- | | |
|----------|---|
| 1 ООН; | А об'єднує США, Канаду, Мексику для реалізації угоди про зону вільної торгівлі; |
| 2 НАФТА; | Б організація країн, що є експортерами нафти; |
| 3 СОТ; | В серед засновників організації була Україна (на той час УРСР); |
| 4 ОПЕК. | Г головна мета діяльності – охорона природних екосистем; |
| | Д економічна організація (понад 150 країн-членів), що регулює правила міжнародної торгівлі. |

	А	Б	В	Г	Д
1					
2					
3					
4					

У завданнях 51 – 60 розташуйте запропоновані факти у правильній послідовності. Поставте позначки в таблиці зошита на перетині відповідних колонок і рядків. Цифри 1 має відповідати перший обраний Вами факт, цифри 2 – другий і так далі. Перенесіть позначки до бланку А згідно з інструкцією. Усі інші види Вашого запису у бланку А комп'ютерна програма реєструватиме як помилку!

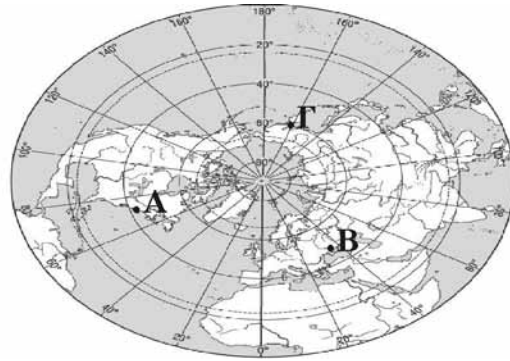
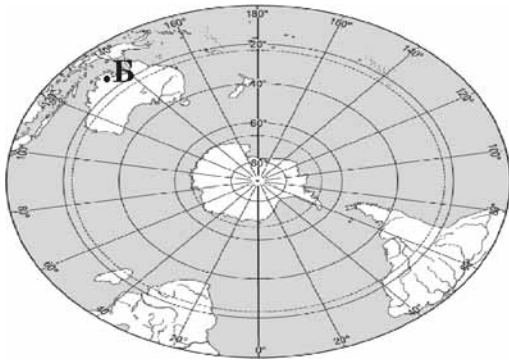
Будьте особливо уважні, заповнюючи бланк А!
Не погіршуйте власноручно свого результату неправильною формою запису відповідей

51. Розташуйте географічні об'єкти в тій послідовності, в якій вони були відкриті європейцями.

- А Нова Зеландія;
- Б Мис Доброї Надії;
- В Антарктичний півострів;
- Г Магелланова протока.

	А	Б	В	Г
1				
2				
3				
4				

52. Розташуйте позначені на обох півкулях буквами географічні об'єкти в порядку настання в цих точках нової доби.



А Б В Г

1				
2				
3				
4				

53. Розташуйте послідовно назви водних мас Індійського океану (від острова Ява до берегів Антарктиди).

- А тропічні;
- Б екваторіальні;
- В полярні;
- Г помірні.

А Б В Г

1				
2				
3				
4				

54. Розташуйте послідовно (з півночі на південь) природні зони Східноєвропейської рівнини.

- А степ;
- Б мішані ліси;
- В лісостеп;
- Г тайга.

А Б В Г

1				
2				
3				
4				

55. Розташуйте послідовно одиниці регіональної класифікації ландшафтів України, починаючи від найбільшої за рангом.

- А область;
- Б зона;
- В край;
- Г країна.

А Б В Г

1				
2				
3				
4				

56. Установіть послідовність перетину природних областей Українських Карпат, якщо рухатись у напрямку з північного сходу на південний захід.

- А Полонинсько-Чорногірська;
- Б Зовнішньокарпатська;
- В Вулканічно-Карпатська;
- Г Вододільно-Верховинська.

А Б В Г

1				
2				
3				
4				

57. Розташуйте послідовно види транспорту України за показником вантажообігу (починаючи від найменшого).

- А річковий;
- Б трубопровідний;
- В залізничний;
- Г автомобільний.

А Б В Г

1				
2				
3				
4				

58. Розташуйте країни за показником ВВП на душу населення, починаючи від найменшого.

- А Китай;
- Б Польща;
- В Ефіопія;
- Г Канада.

А Б В Г

1				
2				
3				
4				

59. Обчисліть середню густоту (щільність) населення країн, зазначених у таблиці. Розташуйте їх послідовно від найбільшого до найменшого показника.

	Країна	Кількість населення (млн осіб)	Площа (тис.км ²)
А	Індія	1092	3288
Б	Бразилія	186	8512
В	Нідерланди	16,5	41,9
Г	Єгипет	79	1001

А Б В Г

1				
2				
3				
4				

60. Установіть у хронологічній послідовності події (починаючи від найдавнішої), наслідком яких є антропогенні зміни в природі.

А початок будівництва каскаду водосховищ на Дніпрі, що призвело до втрати значних площ родючої землі;

Б початок переселення з Америки в Європу рослин-ендемів, що стали поширеними сільськогосподарськими культурами;

В початок переселення тварин із Європи в Австралію, що стало справжнім лихом для місцевої фауни;

Г прийняття законів України «Про охорону навколишнього середовища» та «Про зону надзвичайної екологічної ситуації», спрямованих на поліпшення екологічної ситуації в державі.

А Б В Г

1				
2				
3				
4				

Кінець тестового зошита

ТЕСТ ІЗ ГЕОГРАФІЇ

Час виконання – 120 хвилин

Тест складається з 60 завдань різних форм. Відповіді на завдання 1–60 Ви маєте позначити в бланку *A*. Правила виконання подано перед завданнями кожної нової форми.

Інструкція щодо роботи в тестовому зошиті

1. Відповідайте тільки після того, як Ви уважно прочитали та зрозуміли завдання.
2. У разі необхідності використовуйте як чернетку вільні від тексту місця в зошиті.
3. Намагайтеся виконати всі завдання.

Інструкція щодо заповнення бланка відповідей *A*

1. До бланка записуйте лише правильні, на Вашу думку, відповіді.
2. Відповіді вписуйте чітко, дотримуючись вимог інструкції до кожної форми завдань.
3. Неправильно позначені, закреслені та підчищені відповіді в бланку *A* вважатимуться помилками.
4. Якщо Ви позначили відповідь неправильно, можете виправити її у відповідному місці бланку *A*.
5. Ваш результат залежатиме від загальної кількості правильних відповідей, записаних у бланку *A*.
6. Позначте номер Вашого зошита у відповідному місці бланку *A*.

Ознайомившись із інструкцією, перевірте якість друку зошита та кількість сторінок. Їх має бути 12.

Бажаємо Вам успіху!

Завдання 1 – 40 мають по чотири варіанти відповіді, серед яких лише один правильний. Виберіть, на Вашу думку, правильний варіант відповіді і позначте його в бланку А згідно з інструкцією. Не робіть інших позначок у бланку А тому, що комп'ютерна програма реєструватиме їх як помилки!

Будьте особливо уважні, заповнюючи бланк А!
Не погіршуйте власноручно свого результату неправильною формою запису відповідей

1. Укажіть твердження, що є визначенням поняття «географія».
А наука про склад, будову, властивості та перетворення речовин;
Б наука про природу земної поверхні, розміщення населення та господарства;
В наука про загальний розвиток того чи іншого народу, країни або всього суспільства;
Г наука про просторові відношення та форми реального світу.


 2. Укажіть напрямок обертання Землі навколо своєї осі.
А із півдня на північ;
Б із заходу на схід;
В зі сходу на захід;
Г залежить від пори року чи від часу доби.

 3. Визначте географічні координати точки S.
А 27° пд. ш. і 74° сх. д.;
Б 27° пд. ш. і 66° зх. д.;
В 33° пн. ш. і 66° сх. д.;
Г 33° пн. ш. і 74° зх. д.
-
4. Що є основним чинником утворення яру?
А робота текучих вод;
Б робота вітру;
В вплив льодовика;
Г вулканізм і землетруси.

 5. Якому поняттю відповідає визначення: «стадія щорічного водного режиму річок, який характеризується найбільшою водністю, високим і тривалим підняттям рівня води, що супроводжується затопленням заплави»?
А паводок;
Б повінь;
В межень;
Г приплив.

 6. Які ґрунти є найбільш поширеними в зоні лісостепів помірного поясу?
А чорноземи;
Б коричневі та сіро-коричневі ксерофітних лісів і чагарникових степів;
В дерново-підзолисті;
Г бурі лісові.

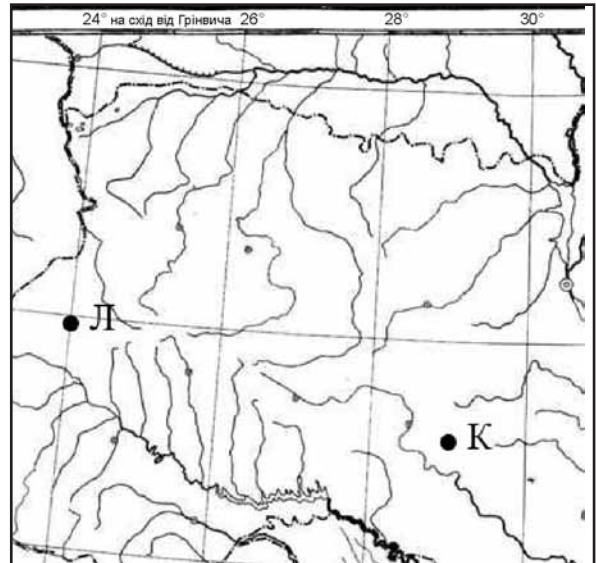
7. Що сприяє розвитку «парникового ефекту»?
- А зменшення товщини озонового шару в стратосфері;
 - Б збільшення кількості вуглекислого газу в атмосфері;
 - В зменшення кількості кисню в нижньому шарі тропосфери;
 - Г збільшення кількості азоту в атмосфері.
8. Укажіть течію, що переміщується над Південноатлантичним, Західноіндійським хребтами та Східнотихоокеанським підняттям.
- А Західних вітрів;
 - Б Гольфстрім;
 - В Північна пасатна;
 - Г Куросіо.
9. Визначте **неправильне** твердження про природу материка.
- А Антарктида – найбільшим хижаком є білий ведмідь;
 - Б Африка – серед форм рельєфу переважають плоскогір'я;
 - В Євразія – омивається морями чотирьох океанів;
 - Г Австралія – немає діючих вулканів.
10. Для якої природної країни Євразії характерні мусонні ліси.
- А Східна Азія;
 - Б Фенноскандія;
 - В Балканський півострів;
 - Г Західна Азія.
11. Укажіть озеро, що є стічним.
- А Чад;
 - Б Ері;
 - В Ейр;
 - Г Аральське море.
12. Укажіть правильне твердження про населення материка Австралія.
- А найвищий рівень урбанізації серед усіх материків;
 - Б темпи природного приросту населення більші, ніж в Південній Америці;
 - В корінне населення належить до австралоїдної гілки монголоїдної раси;
 - Г аборигени становлять 20% населення материка.
13. На фрагменті космічного знімка Середземномор'я буквами позначені чотири райони. Оберіть букву (А, Б, В чи Г), якою позначений район найінтенсивнішого зрошувального землеробства.



14. На якому материку засновано заповідники: Ноатак, Долина Смерті, Великий Каньйон.
А Південна Америка;
Б Євразія;
В Австралія;
Г Північна Америка.

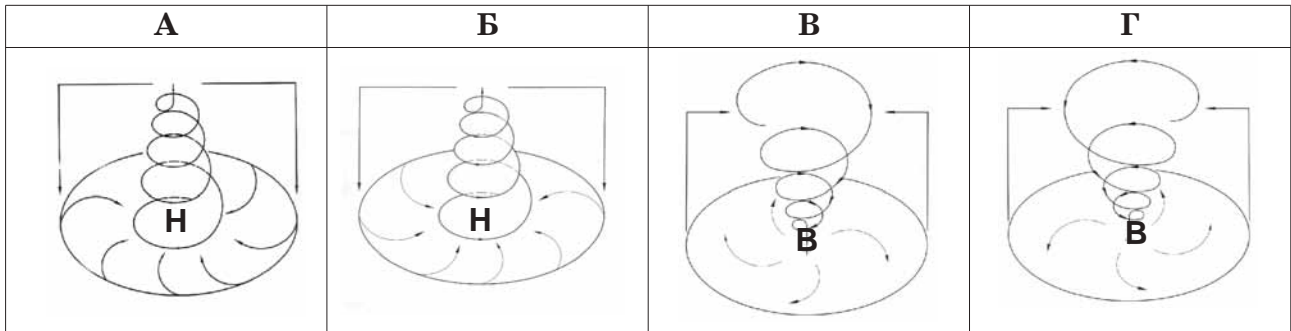
15. Із якою країною Україна має морську ділянку державного кордону.
А Болгарія;
Б Грузія;
В Туреччина;
Г Румунія.

16. Розгляньте картосхему. Визначте місцевий час у пункті Л, якщо в пункті К за місцевим часом у цей момент 11 година 04 хвилини.
А 10 год 59 хв;
Б 11 год 24 хв;
В 10 год 44 хв;
Г 11 год 09 хв.



17. На якій платформі розташований Український кристалічний щит?
А Західноєвропейська;
Б Сибірська;
В Східноєвропейська;
Г Скіфська.
18. До якої ери відноситься антропогеновий геологічний період?
А кайнозойська;
Б палеозойська;
В мезозойська;
Г протерозойська.
19. Яким умовним знаком на карті позначають родовища: Бориславське, Бугруватівське, Долинське.
А ■
Б ▬
В □
Г ▲
20. Знайдіть **неправильне** твердження щодо використання метеорологічного приладу.
А термометром вимірюють температуру повітря;
Б флюгером визначають напрямок і силу вітру;
В барометром вимірюють випаровуваність;
Г гігрометром вимірюють вологість повітря.

21. Розгляньте схеми. Визначте, яка із них відображає процес, що формує в Україні взимку мінливу вітряну погоду з відлигами і опадами.



22. До басейну якої річки відносяться притоки Тетерів, Рось, Псел, Інгулець?

- А Дністер;
- Б Дунай;
- В Дніпро;
- Г Дон.

23. Укажіть форму організації виробництва, що має визначення: «поєднання на одному підприємстві всіх стадій переробки певної сировини, що забезпечує мало- або безвідходність виробництва».

- А комбінування;
- Б спеціалізація;
- В концентрація;
- Г кооперування.

24. Визначте правильний варіант ланцюга (галузь → підприємство → основний чинник розміщення підприємства) для столиці України:

- А харчова промисловість → кондитерська фабрика «Світоч» → вода;
- Б лісова промисловість → швейна фабрика «Каштан» → трудові ресурси;
- В машинобудування → авіазавод КНТК «Антонов» → кваліфіковані кадри;
- Г хіміко-фармацевтична промисловість → фармацевтична фірма «Дарниця» → вода.





25. Укажіть порт на Азовському морі.

- А Іллічівськ;
- Б Очаків;
- В Феодосія;
- Г Генічеськ.

26. Визначте, який із позначених буквами на картосхемі регіонів України за агрокліматичними умовами найбільш придатний для вирощування соняшника.

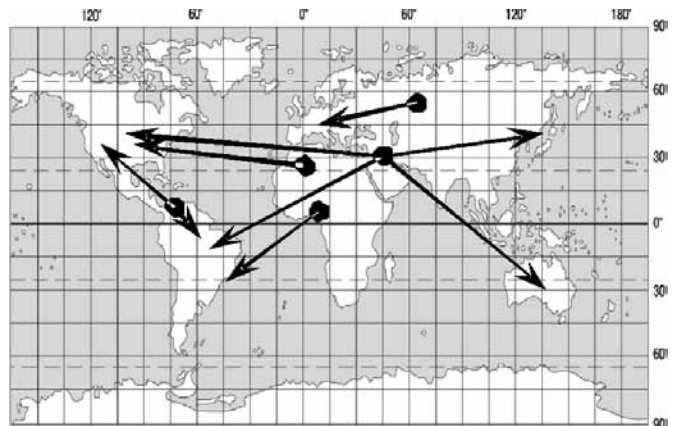


27. Укажіть варіант, де обидва виробництва є спеціалізацією Північно-Східного, Донецького та Придніпровського районів.
 А металообробка, лісозаготівля;
 Б важке машинобудування, металургія;
 В тонкорунне вівчарство, виноградарство;
 Г нафтопереробка, льонарство.
28. Визначте, які транспортні шляхи було прокладено між Львовом і Перемишлем у 1861 р. і між Одесою та Балтою в 1865 р.
 А судноплавні канали;
 Б трубопроводи;
 В залізничні колії;
 Г шосейні дороги.
29. Укажіть **неправильне** твердження щодо зовнішньоекономічних зв'язків України.
 А основною часткою міжнародних послуг України є транспортні для країн СНД;
 Б 10% імпорتنих витрат припадає на нафту та природний газ;
 В найбільше товарів експортується до Росії, Німеччини, Туреччини, Китаю;
 Г природно-історичний чинник відіграє значну роль у наданні туристичних послуг.
30. У якому рядку вказані міста України, що стали курортами завдяки лікувальним властивостям мінеральних джерел?
 А Макіївка, Охтирка, Шостка;
 Б Слов'янськ, Моршин, Саки;
 В Чугуїв, Черкаси, Чернівці;
 Г Джанкой, Ізмаїл, Маріуполь.
31. На фотографіях зображено визначні об'єкти чотирьох столиць країн світу. Укажіть об'єкт тієї столиці, яка за кількістю населення не є найбільшим містом у своїй країні.

А	Б	В	Г
			

32. Обчисліть, якою стала кількість населення 100-мільйонної країни через рік, якщо показники руху населення в цьому році були такими: народжуваність – 35 ‰, смертність – 18 ‰, еміграція – 3 ‰, імміграція – 1 ‰.
 А 103,5 млн осіб.
 Б 102,5 млн осіб;
 В 101,5 млн осіб;
 Г 100,5 млн осіб.
33. У якому рядку вказано країну, що не входить до складу ЄС?
 А Греція, Італія, Фінляндія;
 Б Австрія, Швейцарія, ФРН;
 В Швеція, Данія, Латвія;
 Г Болгарія, Угорщина, Польща.

34. Який регіон Росії спеціалізується на нафтовидобутку та нафтопереробці?
 А Східний Сибір;
 Б Північ Далекого Сходу;
 В Центральне Чорнозем'я;
 Г Західний Сибір.
35. Укажіть, завдяки якому чиннику хімічна промисловість США, Японії, ФРН знаходиться в авангарді світового господарства.
 А забезпеченість дешевою електроенергією;
 Б високий рівень науково-дослідної бази;
 В забезпеченість різноманітною власною мінеральною сировиною;
 Г вигідне економіко-географічне положення.
36. Визначте **неправильне** твердження щодо лідерства країни в Латинській Америці:
 А Чилі – за запасами мідної руди;
 Б Аргентина – за експортом зерна;
 В Еквадор – за імпортом бананів;
 Г Бразилія – за виробництвом автомобілів.
37. Країна, природні умови якої дозволяють вирощувати в промислових масштабах цукровий буряк і цукрову тростину:
 А США;
 Б Росія;
 В Франція;
 Г Єгипет.
38. У якому рядку вказані курорти Африки:
 А Хургада, Шарм-ель-Шейх, Сейшельські острови;
 Б Анталія, Дубаї, Мальдівські острови;
 В Санта Барбара, Лас-Вегас, Гавайські острови;
 Г Баден-Баден, Карлові Вари, Балеарські острови.
39. На картосхемі зображені головні напрямки міжнародних вантажо-потоків:
 А нафти;
 Б бокситів;
 В залізної руди;
 Г кам'яного вугілля.



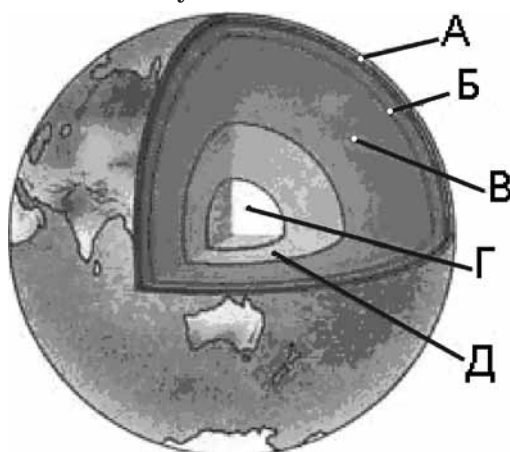
40. Укажіть державу, на території якої знаходяться визнані ЮНЕСКО об'єкти культурно-історичної спадщини: мавзолей Тадж-Махал, храм Сонця в Конараку.
 А Перу;
 Б Японія;
 В Індія;
 Г Австралія.

У завданнях 41 – 50 до кожного з чотирьох рядків інформації, позначених цифрами, виберіть один, на Вашу думку, правильний варіант, позначений буквою. Поставте позначки в таблиці зошита на перетині відповідних рядків (цифри) і колонок (букви). Перенесіть позначки до бланку А згідно з інструкцією. Усі інші види Вашого запису у бланку А комп'ютерна програма реєструватиме як помилку!

Будьте особливо уважні, заповнюючи бланк А!
Не погіршуйте власноручно свого результату неправильною формою запису відповідей

41. Установіть відповідність між шарами внутрішньої будови Землі та буквами, якими вони позначені на малюнку.

- 1 земна кора;
- 2 астеносфера;
- 3 мантія;
- 4 внутрішнє ядро.

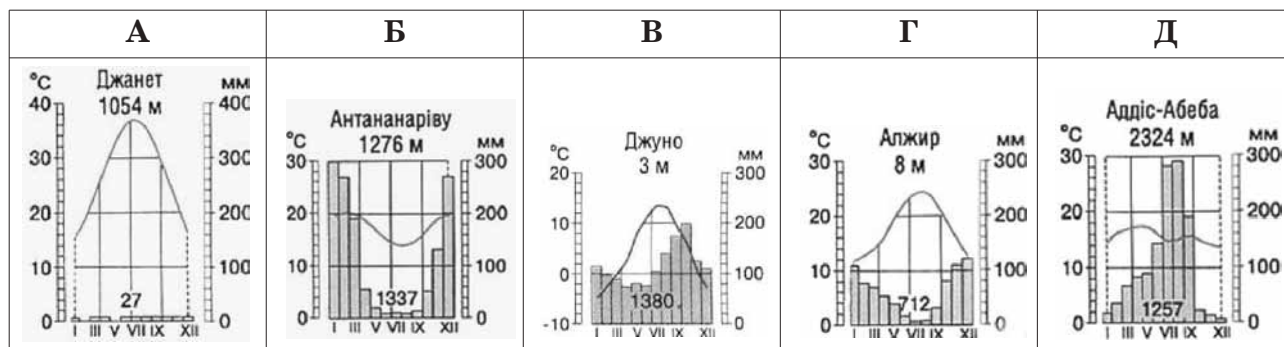


	А	Б	В	Г	Д
1					
2					
3					
4					

42. Установіть відповідність між типами клімату та кліматограмами.

- 1 субтропічний середземноморський Північної півкулі;
- 2 морський помірний Північної півкулі;
- 3 субекваторіальний Південної півкулі;
- 4 тропічний пустельний Північної півкулі.

	А	Б	В	Г	Д
1					
2					
3					
4					



43. Установіть відповідність між назвами творів, де подано географічний опис України, та часом їхнього написання.

- 1 «Географія» в 17-ти томах грецького мислителя Страбона;
- 2 «Труды этнографическо-статистической экспедиции въ Западно-Русскій край» у 7-ми томах етнографа Павла Чубинського;
- 3 «Українська географічна енциклопедія» в 3-х томах (за редакцією члена-кореспондента НАН України Олександра Маринича);
- 4 «Географія України і сумежних земель» картографа Володимира Кубійовича.

- А 1932 р.;
- Б I ст. до н.е.;
- В 1989 – 1993 рр.;
- Г X ст.;
- Д 1872 – 1879 рр.

	А	Б	В	Г	Д
1					
2					
3					
4					


44. Знайдіть відповідність між рівнинами на території України та формами земної поверхні, що характерні для цих рівнин.

- | | |
|-----------------------------|------------------------------|
| 1 Поліська низовина; | А соляні куполи; |
| 2 Придніпровська низовина; | Б конуси грязьових вулканів; |
| 3 Донецька височина; | В поди, блюдця; |
| 4 Причорноморська низовина. | Г терикони; |
| | Д моренні горби. |

	А	Б	В	Г	Д
1					
2					
3					
4					

45. Розгляньте космічний знімок. Установіть відповідність між інформацією про певні акваторії (позначена цифрами), та акваторіями (позначені на космічному знімку буквами).

- солоність води в цьому районі перевищує 18‰;
- біля берегів України влітку тут найтепліша вода, проте взимку море в цьому районі може замерзати;
- червону водорість (філофору) збирають тут у великій кількості;
- шельфова зона тут вузька, глибини моря стрімко збільшуються неподалік від берега.



	А	Б	В	Г	Д
1					
2					
3					
4					

46. Установіть відповідність між національними меншинами України та районами їхнього компактного проживання, що позначені на картосхемі буквами.

- кримські татари;
- болгари;
- поляки;
- угорці.



	А	Б	В	Г	Д
1					
2					
3					
4					

47. Установіть відповідність між назвами атомних станцій та їхніми містами-супутниками.

- | | |
|-----------------------|------------------|
| 1 Хмельницька; | А Южноукраїнськ; |
| 2 Рівненська; | Б Энергодар; |
| 3 Запорізька; | В Нетішин; |
| 4 Південноукраїнська. | Г Прип'ять; |
| | Д Кузнецовськ. |

	А	Б	В	Г	Д
1					
2					
3					
4					

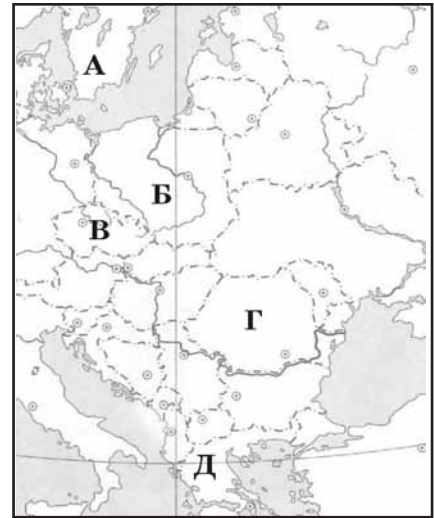
48. Установіть відповідність між областями України та туристськими об'єктами, розташованими в них.

- | | |
|----------------------|--------------------------|
| 1 Тернопільська; | А Святогірська лавра; |
| 2 Івано-Франківська; | Б Дендропарк «Софіївка»; |
| 3 Черкаська; | В Луцький замок; |
| 4 Волинська. | Г гора Говерла; |
| | Д печера «Кришталева». |

	А	Б	В	Г	Д
1					
2					
3					
4					

49. Розгляньте картосхему. Установіть відповідність між інформацією, що характеризує ту чи іншу державу, та державою, що позначена на карті буквою.

- 1 країна, населення якої становить 38,6 млн осіб; експортує вугілля, мідь, продукцію машинобудування й АПК; має значний товарообіг з Україною (>1 млрд доларів США);
- 2 у країні переважає гірський рельєф; її територією протікає друга за довжиною річка Європи; 49% населення зайнято в промисловості;
- 3 країна – член ЄС, але не входить до НАТО; багата на лісові ресурси; виробляє автомобілі «Вольво»; населення мешкає переважно на півдні країни;
- 4 населення країни утворює окрему групу індоєвропейської мовної сім'ї; панівною є православна віра; столиця – одне з найдавніших міст світу.



	А	Б	В	Г	Д
1					
2					
3					
4					

50. Установіть відповідність між назвами міжнародних організацій та наведеними про них фактами.

- | | |
|----------|---|
| 1 ООН; | А серед засновників організації була Україна (на той час УРСР); |
| 2 НАФТА; | Б економічна організація (понад 150 країн-членів), що регулює правила міжнародної торгівлі; |
| 3 СОТ; | В об'єднує США, Канаду, Мексику для реалізації угоди про зону вільної торгівлі; |
| 4 ОПЕК; | Г головна мета діяльності – охорона природних екосистем; |
| | Д організація країн, що є експортерами нафти. |

	А	Б	В	Г	Д
1					
2					
3					
4					

У завданнях 51 – 60 розташуйте запропоновані факти у правильній послідовності. Поставте позначки в таблиці зошита на перетині відповідних колонок і рядків. Цифрі 1 має відповідати перший обраний Вами факт, цифрі 2 – другий і так далі. Перенесіть позначки до бланка А згідно з інструкцією. Усі інші види Вашого запису у бланку А комп'ютерна програма реєструватиме як помилку!

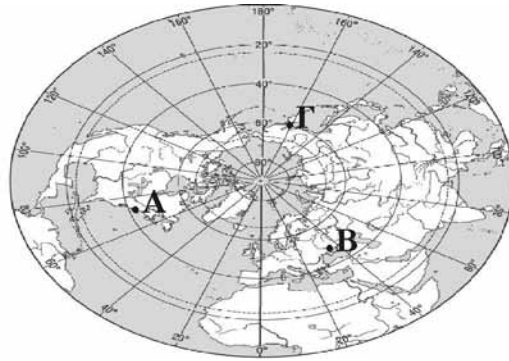
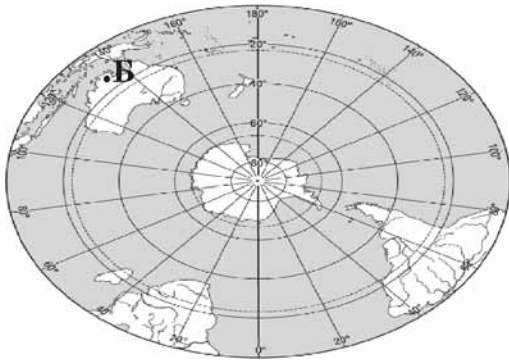
Будьте особливо уважні, заповнюючи бланк А!
Не погіршуйте власноручно свого результату неправильною формою запису відповідей

51. Розташуйте географічні об'єкти в тій послідовності, в якій вони були відкриті європейцями.

- А Антарктичний півострів;
- Б Магелланова протока;
- В Нова Зеландія;
- Г Мис Доброї Надії.

	А	Б	В	Г
1				
2				
3				
4				

52. Розташуйте позначені на обох півкулях буквами географічні об'єкти в порядку настання в цих точках нової доби.



А Б В Г

1				
2				
3				
4				

53. Розташуйте послідовно назви водних мас Індійського океану (від острова Ява до берегів Антарктиди).

- А екваторіальні;
- Б тропічні;
- В полярні;
- Г помірні.

А Б В Г

1				
2				
3				
4				

54. Розташуйте послідовно (з півночі на південь) природні зони Східноєвропейської рівнини.

- А степ;
- Б тайга;
- В лісостеп;
- Г мішані ліси.

А Б В Г

1				
2				
3				
4				

55. Розташуйте послідовно одиниці регіональної класифікації ландшафтів України, починаючи від найбільшої за рангом.

- А область;
- Б край;
- В країна;
- Г зона.

А Б В Г

1				
2				
3				
4				

56. Установіть послідовність перетину природних областей Українських Карпат, якщо рухатись у напрямку з північного сходу на південний захід.

- А Полонинсько-Чорногірська;
- Б Вододільно-Верховинська;
- В Вулканічно-Карпатська;
- Г Зовнішньокарпатська.

А Б В Г

1				
2				
3				
4				

57. Розташуйте послідовно види транспорту України за показником вантажообігу (починаючи від найменшого).

- А автомобільний;
- Б трубопровідний;
- В залізничний;
- Г річковий.

А Б В Г

1				
2				
3				
4				

58. Розташуйте країни за показником ВВП на душу населення, починаючи від найменшого.

- А Ефіопія;
- Б Польща;
- В Китай;
- Г Канада.

А Б В Г

1				
2				
3				
4				

59. Обчисліть середню густоту (щільність) населення країн, зазначених у таблиці. Розташуйте їх послідовно від найбільшого до найменшого показника.

	Країна	Кількість населення (млн осіб)	Площа (тис.км ²)
А	Індія	1092	3288
Б	Нідерланди	16,5	41,9
В	Бразилія	186	8512
Г	Єгипет	79	1001

А Б В Г

1				
2				
3				
4				

60. Установіть у хронологічній послідовності події (починаючи від найдавнішої), наслідком яких є антропогенні зміни в природі.

А початок будівництва каскаду водосховищ на Дніпрі, що призвело до втрати значних площ родючої землі;

Б початок переселення тварин із Європи в Австралію, що стало справжнім лихом для місцевої фауни;

В початок переселення з Америки в Європу рослин-ендемів, що стали поширеними сільськогосподарськими культурами;

Г прийняття законів України «Про охорону навколишнього середовища» та «Про зону надзвичайної екологічної ситуації», спрямованих на поліпшення екологічної ситуації в державі.

А Б В Г

1				
2				
3				
4				

Кінець тестового зошита

ТЕСТ ІЗ ГЕОГРАФІЇ

Час виконання – 120 хвилин

Тест складається з 60 завдань різних форм. Відповіді на завдання 1–60 Ви маєте позначити в бланку *A*. Правила виконання подано перед завданнями кожної нової форми.

Інструкція щодо роботи в тестовому зошиті

1. Відповідайте тільки після того, як Ви уважно прочитали та зрозуміли завдання.
2. У разі необхідності використовуйте як чернетку вільні від тексту місця в зошиті.
3. Намагайтеся виконати всі завдання.

Інструкція щодо заповнення бланка відповідей *A*

1. До бланка записуйте лише правильні, на Вашу думку, відповіді.
2. Відповіді вписуйте чітко, дотримуючись вимог інструкції до кожної форми завдань.
3. Неправильно позначені, закреслені та підчищені відповіді в бланку *A* вважатимуться помилками.
4. Якщо Ви позначили відповідь неправильно, можете виправити її у відповідному місці бланку *A*.
5. Ваш результат залежатиме від загальної кількості правильних відповідей, записаних у бланку *A*.
6. Позначте номер Вашого зошита у відповідному місці бланку *A*.

Ознайомившись із інструкцією, перевірте якість друку зошита та кількість сторінок. Їх має бути 12.

Бажаємо Вам успіху!

Завдання 1 – 40 мають по чотири варіанти відповіді, серед яких лише один правильний. Виберіть, на Вашу думку, правильний варіант відповіді і позначте його в бланку А згідно з інструкцією. Не робіть інших позначок у бланку А тому, що комп'ютерна програма реєструватиме їх як помилки!

**Будьте особливо уважні, заповнюючи бланк А!
Не погіршуйте власноручно свого результату неправильною формою запису відповідей**

1. Укажіть твердження, що є визначенням поняття «географія».
А наука про склад, будову, властивості та перетворення речовин;
Б наука про загальний розвиток того чи іншого народу, країни або всього суспільства;
В наука про просторові відношення та форми реального світу;
Г наука про природу земної поверхні, розміщення населення та господарства.

2. Укажіть напрямок обертання Землі навколо своєї осі.
А залежить від пори року чи від часу доби;
Б із півдня на північ;
В зі сходу на захід;
Г із заходу на схід.

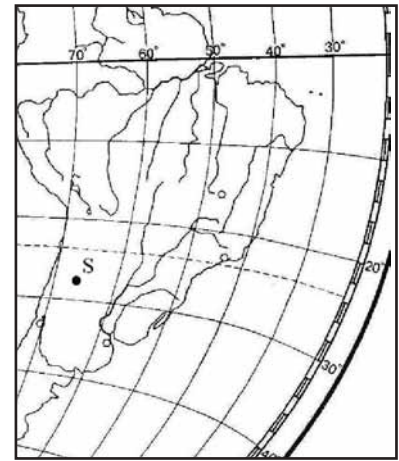
3. Що є основним чинником утворення яру?
А робота вітру;
Б вплив льодовика;
В робота текучих вод;
Г вулканізм і землетруси.

4. Якому поняттю відповідає визначення: «стадія щорічного водного режиму річок, який характеризується найбільшою водністю, високим і тривалим підняттям рівня води, що супроводжується затопленням заплави»?
А межень;
Б паводок;
В повінь;
Г приплив.

5. Які ґрунти є найбільш поширеними в зоні лісостепів помірного поясу?
А коричневі та сіро-коричневі ксерофітних лісів і чагарникових степів;
Б бурі лісові;
В чорноземи;
Г дерново-підзолисті.


6. Що сприяє розвитку «парникового ефекту»?
А зменшення кількості кисню в нижньому шарі тропосфери;
Б зменшення товщини озонового шару в стратосфері;
В збільшення кількості азоту в атмосфері;
Г збільшення кількості вуглекислого газу в атмосфері.

7. Визначте географічні координати точки S.
- А 33° пн. ш. і 66° сх. д.;
 - Б 27° пд. ш. і 74° сх. д.;
 - В 27° пд. ш. і 66° зх. д.;
 - Г 33° пн. ш. і 74° зх. д.



8. Укажіть течію, що переміщується над Південноатлантичним, Західноіндійським хребтами та Східнотихоокеанським підняттям.
- А Гольфстрім;
 - Б Куросію;
 - В Північна пасатна;
 - Г Західних вітрів.
9. Визначте **неправильне** твердження про природу материка.
- А Африка – серед форм рельєфу переважають плоскогір'я;
 - Б Австралія – немає діючих вулканів;
 - В Євразія – омивається морями чотирьох океанів;
 - Г Антарктида – найбільшим хижаком є білий ведмідь.
10. Для якої природної країни Євразії характерні мусонні ліси.
- А Фенноскандія;
 - Б Західна Азія;
 - В Балканський півострів;
 - Г Східна Азія.
11. Укажіть озеро, що є стічним.
- А Аральське море;
 - Б Ейр;
 - В Чад;
 - Г Ері.
12. Укажіть правильне твердження про населення материка Австралія.
- А темпи природного приросту населення більші, ніж в Південній Америці;
 - Б аборигени становлять 20% населення материка;
 - В корінне населення належить до австралоїдної гілки монголоїдної раси;
 - Г найвищий рівень урбанізації серед усіх материків.

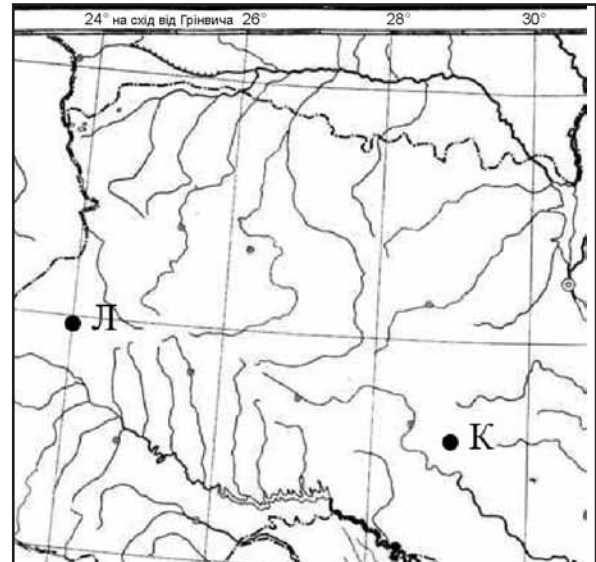
13. На фрагменті космічного знімка Середземномор'я буквами позначені чотири райони. Оберіть букву (А, Б, В чи Г), якою позначений район найінтенсивнішого зрошувального землеробства.







14. На якому материкау засновано заповідники: Ноатак, Долина Смерті, Великий Каньйон.
- А Австралія;
 - Б Євразія;
 - В Північна Америка;
 - Г Південна Америка.

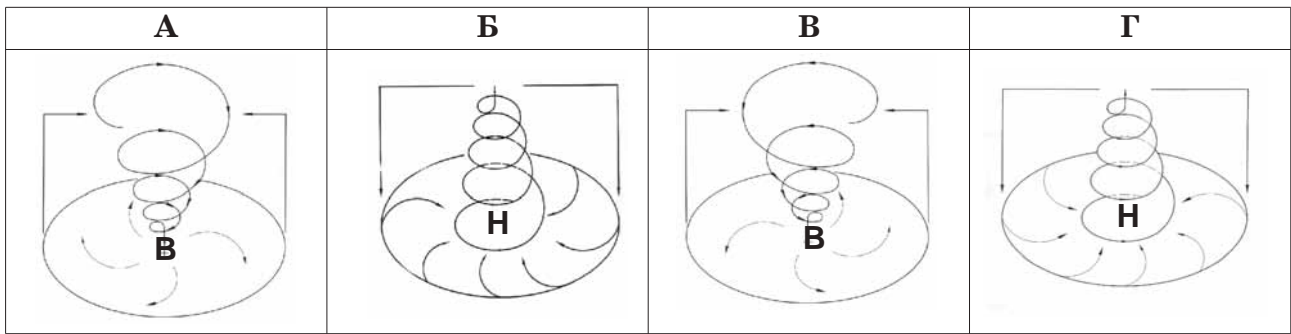
15. Із якою країною Україна має морську ділянку державного кордону.
- А Румунія;
 - Б Грузія;
 - В Болгарія;
 - Г Туреччина.

16. Розгляньте картосхему. Визначте місцевий час у пункті Л, якщо в пункті К за місцевим часом у цей момент 11 година 04 хвилини.
- А 11 год 09 хв;
 - Б 11 год 24 хв;
 - В 10 год 59 хв;
 - Г 10 год 44 хв.



17. На якій платформі розташований Український кристалічний щит?
- А Східноєвропейська;
 - Б Західноєвропейська;
 - В Сибірська;
 - Г Скіфська.
18. До якої ери відноситься антропогеновий геологічний період?
- А протерозойська;
 - Б кайнозойська;
 - В мезозойська;
 - Г палеозойська.
19. Яким умовним знаком на карті позначають родовища: Бориславське, Бугруватівське, Долинське.
- А 
 - Б 
 - В 
 - Г 
20. Знайдіть **неправильне** твердження щодо використання метеорологічного приладу.
- А барометром вимірюють випаровуваність;
 - Б термометром вимірюють температуру повітря;
 - В флюгером визначають напрямок і силу вітру;
 - Г гігрометром вимірюють вологість повітря.

21. Розгляньте схеми. Визначте, яка з них відображає процес, що формує в Україні взимку мінливу вітряну погоду з відлигами й опадами.



22. До басейну якої річки відносяться притоки Тетерів, Рось, Псел, Інгулець?

- А Дон;
- Б Дніпро;
- В Дністер;
- Г Дунай.

23. Укажіть форму організації виробництва, що має визначення: «поєднання на одному підприємстві всіх стадій переробки певної сировини, що забезпечує мало- або безвідходність виробництва».

- А кооперування;
- Б комбінування;
- В концентрація;
- Г спеціалізація.

24. Визначте правильний варіант ланцюга (галузь → підприємство → основний чинник розміщення підприємства) для столиці України:

- А лісова промисловість → швейна фабрика «Каштан» → трудові ресурси;
- Б хіміко-фармацевтична промисловість → фармацевтична фірма «Дарниця» → вода;
- В харчова промисловість → кондитерська фабрика «Світоч» → вода;
- Г машинобудування → авіазавод КНТК «Антонов» → кваліфіковані кадри.

25. Укажіть порт на Азовському морі.

- А Генічеськ;
- Б Очаків;
- В Іллічівськ;
- Г Феодосія.

26. Визначте, який із позначених буквами на картосхемі регіонів України за агрокліматичними умовами найбільш придатний для вирощування соняшника.

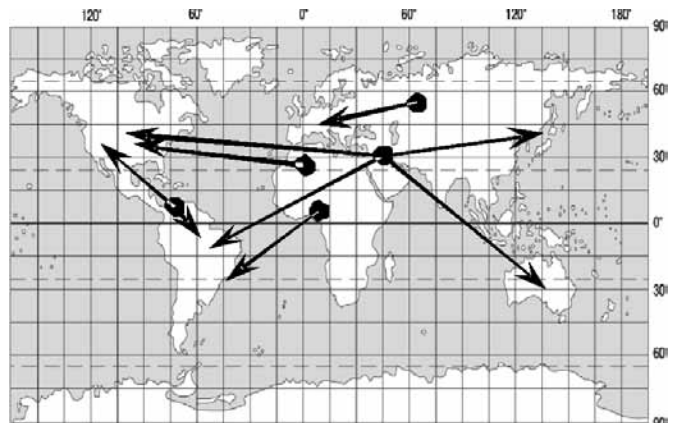


27. Укажіть варіант, де обидва виробництва є спеціалізацією Північно-Східного, Донецького та Придніпровського районів.
 А металообробка, лісозаготівля;
 Б тонкорунне вівчарство, виноградарство;
 В нафтопереробка, льонарство;
 Г важке машинобудування, металургія.
28. Визначте, які транспортні шляхи було прокладено між Львовом і Перемишлем у 1861 р. і між Одесою та Балтою в 1865 р.
 А залізничні колії;
 Б трубопроводи;
 В судноплавні канали;
 Г шосейні дороги.
29. Укажіть **неправильне** твердження щодо зовнішньоекономічних зв'язків України.
 А найбільше товарів експортується до Росії, Німеччини, Туреччини, Китаю;
 Б основною часткою міжнародних послуг України є транспортні для країн СНД;
 В 10% імпортних витрат припадає на нафту та природний газ;
 Г природно-історичний чинник відіграє значну роль у наданні туристичних послуг.
30. У якому рядку вказані міста України, що стали курортами завдяки лікувальним властивостям мінеральних джерел?
 А Макіївка, Охтирка, Шостка;
 Б Чугуїв, Черкаси, Чернівці;
 В Джанкой, Ізмаїл, Маріуполь;
 Г Слов'янськ, Моршин, Саки.
31. На фотографіях зображено визначні об'єкти чотирьох столиць країн світу. Укажіть об'єкт тієї столиці, яка за кількістю населення **не** є найбільшим містом у своїй країні.

А	Б	В	Г
			

32. Обчисліть, якою стала кількість населення 100-мільйонної країни через рік, якщо показники руху населення в цьому році були такими: народжуваність – 35 ‰, смертність – 18 ‰, еміграція – 3 ‰, імміграція – 1 ‰.
 А 100,5 млн осіб;
 Б 103,5 млн осіб;
 В 102,5 млн осіб;
 Г 101,5 млн осіб.
33. У якому рядку вказано країну, що не входить до складу ЄС?
 А Швеція, Данія, Латвія;
 Б Греція, Італія, Фінляндія;
 В Австрія, Швейцарія, ФРН;
 Г Болгарія, Угорщина, Польща.

34. Який регіон Росії спеціалізується на нафтовидобутку та нафтопереробці?
 А Східний Сибір;
 Б Північ Далекого Сходу;
 В Західний Сибір;
 Г Центральне Чорнозем'я.
35. Укажіть, завдяки якому чиннику хімічна промисловість США, Японії, ФРН знаходиться в авангарді світового господарства.
 А високий рівень науково-дослідної бази;
 Б вигідне економіко-географічне положення;
 В забезпеченість різноманітною власною мінеральною сировиною;
 Г забезпеченість дешевою електроенергією.
36. Визначте **неправильне** твердження щодо лідерства країни в Латинській Америці:
 А Аргентина – за експортом зерна;
 Б Еквадор – за імпортом бананів;
 В Бразилія – за виробництвом автомобілів;
 Г Чилі – за запасами мідної руди.
37. Країна, природні умови якої дозволяють вирощувати в промислових масштабах цукровий буряк і цукрову тростину:
 А Єгипет;
 Б США;
 В Франція;
 Г Росія.
38. У якому рядку вказані курорти Африки:
 А Анталія, Дубаї, Мальдівські острови;
 Б Санта Барбара, Лас-Вегас, Гавайські острови;
 В Хургада, Шарм-ель-Шейх, Сейшельські острови;
 Г Баден-Баден, Карлові Вари, Балеарські острови.
39. На картосхемі зображені головні напрямки міжнародних вантажо-потоків:
 А кам'яного вугілля;
 Б нафти;
 В залізної руди;
 Г бокситів.



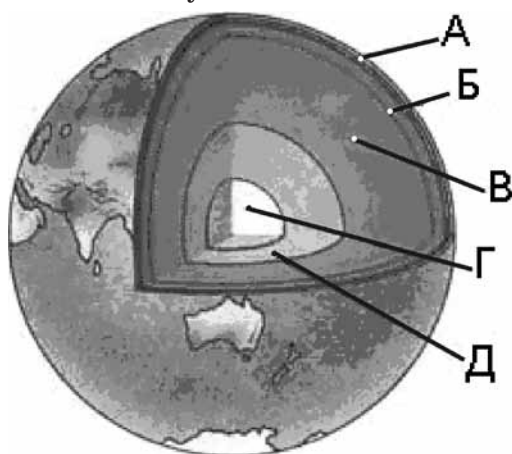
40. Укажіть державу, на території якої знаходяться визнані ЮНЕСКО об'єкти культурно-історичної спадщини: мавзолей Тадж-Махал, храм Сонця в Конараку.
 А Перу;
 Б Індія;
 В Японія;
 Г Австралія.

У завданнях 41 – 50 до кожного з чотирьох рядків інформації, позначених цифрами, виберіть один, на Вашу думку, правильний варіант, позначений буквою. Поставте позначки в таблиці зошита на перетині відповідних рядків (цифри) і колонок (букви). Перенесіть позначки до бланку А згідно з інструкцією. Усі інші види Вашого запису у бланку А комп'ютерна програма реєструватиме як помилку!

Будьте особливо уважні, заповнюючи бланк А!
Не погіршуйте власноручно свого результату неправильною формою запису відповідей

41. Установіть відповідність між шарами внутрішньої будови Землі та буквами, якими вони позначені на малюнку.

- 1 мантия;
- 2 внутрішнє ядро;
- 3 земна кора;
- 4 астеносфера.

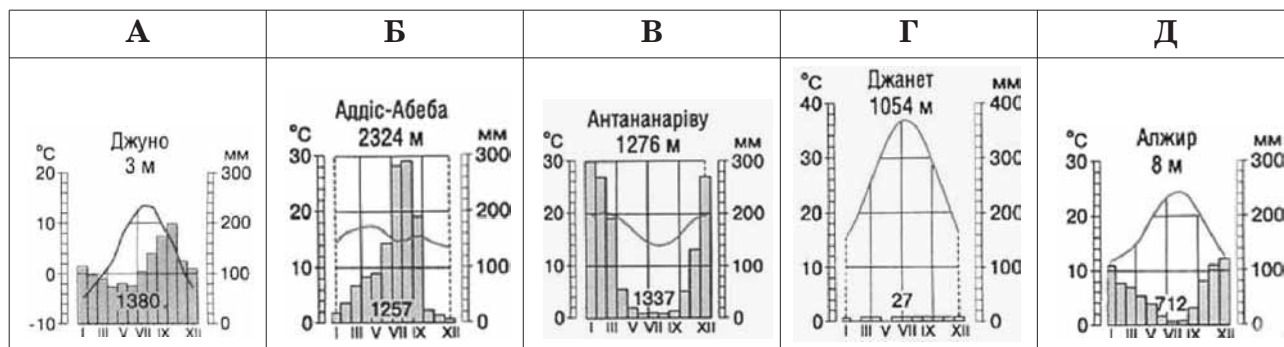


	А	Б	В	Г	Д
1					
2					
3					
4					

42. Установіть відповідність між типами клімату та кліматограмами.

- 1 субтропічний середземноморський Північної півкулі;
- 2 морський помірний Північної півкулі;
- 3 субекваторіальний Південної півкулі;
- 4 тропічний пустельний Північної півкулі.

	А	Б	В	Г	Д
1					
2					
3					
4					



43. Установіть відповідність між назвами творів, де подано географічний опис України, та часом їхнього написання.

- 1 «Географія» в 17-ти томах грецького мислителя Страбона;
- 2 «Труди етнографіческо-статистической експедиції вь Западно-Русскій край» у 7-ми томах етнографа Павла Чубинського;
- 3 «Українська географічна енциклопедія» в 3-х томах (за редакцією члена-кореспондента НАН України Олександра Маринича);
- 4 «Географія України і сумежних земель» картографа Володимира Кубійовича.

- А I ст. до н.е.;
- Б 1989 – 1993 рр.;
- В 1872 – 1879 рр.;
- Г X ст.;
- Д 1932 р.

	А	Б	В	Г	Д
1					
2					
3					
4					

44. Знайдіть відповідність між рівнинами на території України та формами земної поверхні, що характерні для цих рівнин.

- | | |
|-----------------------------|------------------------------|
| 1 Поліська низовина; | А поди, блюдця; |
| 2 Придніпровська низовина; | Б моренні горби; |
| 3 Донецька височина; | В соляні куполи; |
| 4 Причорноморська низовина. | Г конуси грязьових вулканів; |
| | Д терикони. |

	А	Б	В	Г	Д
1					
2					
3					
4					

45. Розгляньте космічний знімок. Установіть відповідність між інформацією про певні акваторії (позначена цифрами), та акваторіями (позначені на космічному знімку буквами).

- червону водорість (філофору) збирають тут у великій кількості;
- шельфова зона тут вузька, глибини моря стрімко збільшуються неподалік від берега;
- солоність води в цьому районі перевищує 18‰;
- біля берегів України влітку тут найтепліша вода, проте взимку море в цьому районі може замерзати.



	А	Б	В	Г	Д
1					
2					
3					
4					

46. Установіть відповідність між національними меншинами України та районами їхнього компактного проживання, що позначені на картосхемі буквами.

- поляки;
- угорці;
- болгари;
- кримські татари.



	А	Б	В	Г	Д
1					
2					
3					
4					

47. Установіть відповідність між назвами атомних станцій та їхніми містами-супутниками.

- | | |
|-----------------------|------------------|
| 1 Хмельницька; | А Прип'ять; |
| 2 Рівненська; | Б Нетішин; |
| 3 Запорізька; | В Енергодар; |
| 4 Південноукраїнська. | Г Кузнецовськ; |
| | Д Южноукраїнськ. |

	А	Б	В	Г	Д
1					
2					
3					
4					

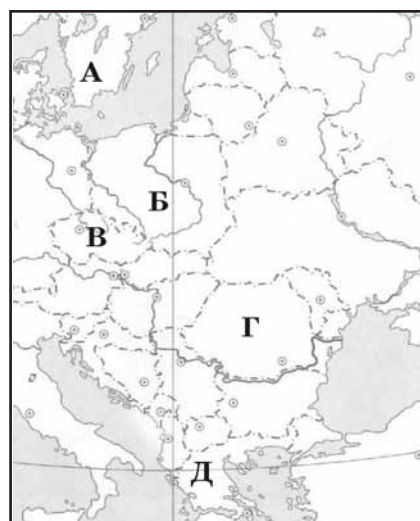
48. Установіть відповідність між областями України та туристськими об'єктами, розташованими в них.

- | | |
|----------------------|--------------------------|
| 1 Тернопільська; | А Луцький замок; |
| 2 Івано-Франківська; | Б печера «Кришталева»; |
| 3 Черкаська; | В гора Говерла; |
| 4 Волинська. | Г Святогірська лавра; |
| | Д Дендропарк «Софіївка». |

	А	Б	В	Г	Д
1					
2					
3					
4					

49. Розгляньте картосхему. Установіть відповідність між інформацією, що характеризує ту чи іншу державу, та державою, що позначена на карті буквою.

- 1 країна – член ЄС, але не входить до НАТО; багата на лісові ресурси; виробляє автомобілі «Вольво»; населення мешкає переважно на півдні країни;
- 2 країна, населення якої становить 38,6 млн осіб; експортує вугілля, мідь, продукцію машинобудування й АПК; має значний товарообіг з Україною (>1 млрд доларів США);
- 3 населення країни утворює окрему групу індоєвропейської мовної сім'ї; панівною є православна віра; столиця – одне з найдавніших міст світу;
- 4 у країні переважає гірський рельєф; її територією протікає друга за довжиною річка Європи; 49% населення зайнято в промисловості.



	А	Б	В	Г	Д
1					
2					
3					
4					

50. Установіть відповідність між назвами міжнародних організацій та наведеними про них фактами.

- | | |
|----------|---|
| 1 ООН; | А економічна організація (понад 150 країн-членів), що регулює правила міжнародної торгівлі; |
| 2 НАФТА; | Б серед засновників організації була Україна (на той час УРСР); |
| 3 СОТ; | В організація країн, що є експортерами нафти; |
| 4 ОПЕК. | Г головна мета діяльності – охорона природних екосистем; |
| | Д об'єднує США, Канаду, Мексику для реалізації угоди про зону вільної торгівлі. |

	А	Б	В	Г	Д
1					
2					
3					
4					

У завданнях 51 – 60 розташуйте запропоновані факти у правильній послідовності. Поставте позначки в таблиці зошита на перетині відповідних колонок і рядків. Цифрі 1 має відповідати перший обраний Вами факт, цифрі 2 – другий і так далі. Перенесіть позначки до бланка А згідно з інструкцією. Усі інші види Вашого запису у бланку А комп'ютерна програма реєструватиме як помилку!

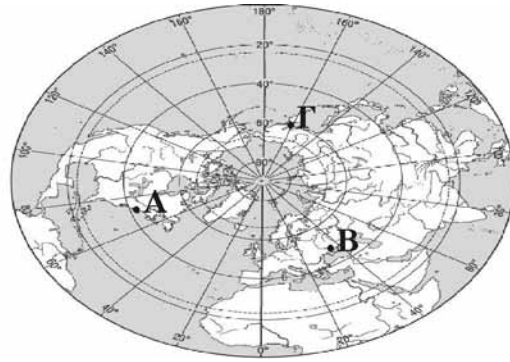
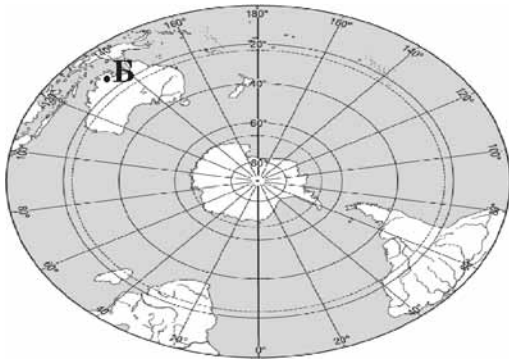
Будьте особливо уважні, заповнюючи бланк А!
Не погіршуйте власноручно свого результату неправильною формою запису відповідей

51. Розташуйте географічні об'єкти в тій послідовності, в якій вони були відкриті європейцями.

- А Магелланова протока;
- Б Антарктичний півострів;
- В Мис Доброї Надії;
- Г Нова Зеландія.

	А	Б	В	Г
1				
2				
3				
4				

52. Розташуйте позначені на обох півкулях буквами географічні об'єкти в порядку настання в цих точках нової доби.



А Б В Г

1				
2				
3				
4				

53. Розташуйте послідовно назви водних мас Індійського океану (від острова Ява до берегів Антарктиди).

- А тропічні;
- Б помірні;
- В полярні;
- Г екваторіальні.

А Б В Г

1				
2				
3				
4				

54. Розташуйте послідовно (з півночі на південь) природні зони Східноєвропейської рівнини.

- А тайга;
- Б мішані ліси;
- В степ;
- Г лісостеп.

А Б В Г

1				
2				
3				
4				

55. Розташуйте послідовно одиниці регіональної класифікації ландшафтів України, починаючи від найбільшої за рангом.

- А країна;
- Б область;
- В край;
- Г зона.

А Б В Г

1				
2				
3				
4				

56. Установіть послідовність перетину природних областей Українських Карпат, якщо рухатись у напрямку з північного сходу на південний захід.

- А Полонинсько-Чорногірська;
- Б Вулканічно-Карпатська;
- В Зовнішньокарпатська;
- Г Вододільно-Верховинська.

А Б В Г

1				
2				
3				
4				

57. Розташуйте послідовно види транспорту України за показником вантажообігу (починаючи від найменшого).

- А трубопровідний;
- Б річковий;
- В залізничний;
- Г автомобільний.

А Б В Г

1				
2				
3				
4				

58. Розташуйте країни за показником ВВП на душу населення, починаючи від найменшого.

- А Канада;
- Б Китай;
- В Ефіопія;
- Г Польща.

А Б В Г

1				
2				
3				
4				

59. Обчисліть середню густоту (щільність) населення країн, зазначених у таблиці. Розташуйте їх послідовно від найбільшого до найменшого показника.

	Країна	Кількість населення (млн осіб)	Площа (тис.км ²)
А	Індія	1092	3288
Б	Бразилія	186	8512
В	Нідерланди	16,5	41,9
Г	Єгипет	79	1001

А Б В Г

1				
2				
3				
4				

60. Установіть у хронологічній послідовності події (починаючи від найдавнішої), наслідком яких є антропогенні зміни в природі.

- А початок переселення тварин із Європи в Австралію, що стало справжнім лихом для місцевої фауни;
 Б початок переселення з Америки в Європу рослин-ендемів, що стали поширеними сільськогосподарськими культурами;
 В прийняття законів України «Про охорону навколишнього середовища» та «Про зону надзвичайної екологічної ситуації», спрямованих на поліпшення екологічної ситуації в державі;
 Г початок будівництва каскаду водосховищ на Дніпрі, що призвело до втрати значних площ родючої землі.

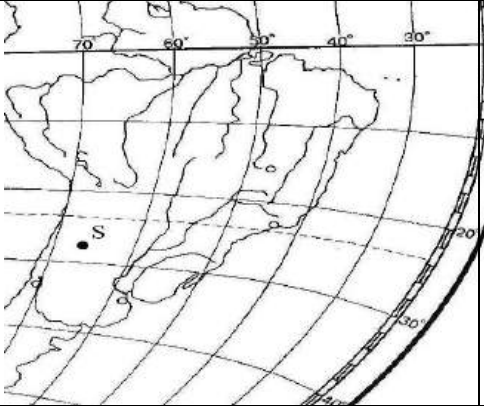
А Б В Г

1				
2				
3				
4				

Кінець тестового зошита

Відповіді на завдання тесту з географії

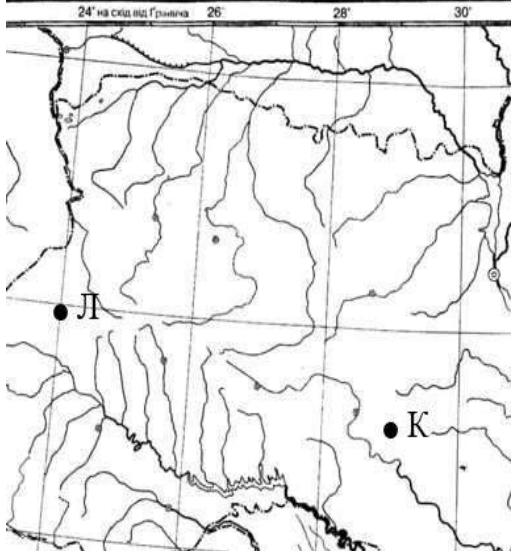
№	Зміст завдання та відповідь	Джерела
Завдання 1 – 40 мають по чотири варіанти відповіді, серед яких лише один правильний		
1	Укажіть твердження, яке є визначенням поняття «географія». Відповідь: наука про природу земної поверхні, розміщення населення і господарства.	Скуратович О.Я., Круглик Л.І., Коваленко Р.Р. Загальна географія: підруч. для 6 кл – К.: Зодіак-ЕКО, 2005. – 319с. § 1
2	Укажіть напрямок обертання Землі навколо своєї осі. Відповідь: із заходу на схід	Скуратович О.Я., Круглик Л.І., Коваленко Р.Р. Загальна географія: підруч. для 6 кл – К.: Зодіак-ЕКО, 2005. – 319с. §5 Пестушко В.Ю., Сасихов В.О., Уварова Г.Є. Географія материків і океанів: підруч. для 7 кл. серед.шк. – К.: Абрис, 2003. – 376с. §2

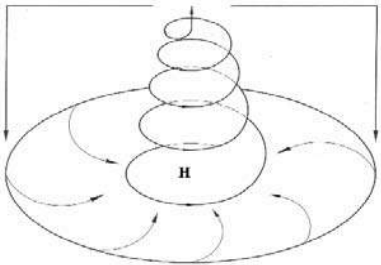
3	<p>Визначте географічні координати точки S.</p> <p>Відповідь: 27° пд. ш. і 66° зх. д.</p>		<p>Скуратович О.Я., Круглик Л.І., Коваленко Р.Р. Загальна географія: підруч. для 6 кл – К.: Зодіак-ЕКО, 2005. – 319с. §8</p>
4	<p>Що є основним чинником утворення яру?</p> <p>Відповідь: робота текучих вод</p>	<p>Скуратович О.Я., Круглик Л.І., Коваленко Р.Р. Загальна географія: підруч. для 6 кл – К.: Зодіак-ЕКО, 2005. – 319 с. §12</p> <p>Шищенко П.Г., Муніч Н.В. Фізична географія України: Підруч. для 8 кл. загальноосвіт. навч. закл. – К.: Зодіак – ЕКО, 2005. – 256 с. §39</p>	
5	<p>Якому поняттю відповідає визначення: «стадія щорічного водного режиму річок, який характеризується найбільшою водністю, високим і тривалим підняттям рівня води, що супроводжується затопленням заплави»?</p> <p>Відповідь: повінь</p>	<p>Скуратович О.Я., Круглик Л.І., Коваленко Р.Р. Загальна географія: підруч. для 6 кл – К.: Зодіак-ЕКО, 2005. – 319с. § 17</p>	
6	<p>Які ґрунти є найбільш поширеними в зоні лісостепів помірного поясу.</p> <p>Відповідь: чорноземи</p>	<p>Скуратович О.Я., Круглик Л.І., Коваленко Р.Р. Загальна географія: підруч. для 6 кл – К.: Зодіак-ЕКО, 2005. – 319с. § 41</p> <p>Пестушко В.Ю., Сасихов В.О., Уварова Г.Є. Географія материків і океанів:</p>	

		<p>підруч. для 7 кл. серед.шк. – К.: Абрис, 2003. – 376с. § 58</p> <p>Атлас для 7 класу «Географія материків та океанів». ДНВП «Картографія»,</p> <p>Атлас для 7 класу «Географія материків та океанів», ПТ</p>
7	<p>Що сприяє розвитку «парникового ефекту»?</p> <p>Відповідь: збільшення кількості вуглекислого газу в атмосфері</p>	<p>Скуратович О.Я., Круглик Л.І., Коваленко Р.Р. Загальна географія: підруч. для 6 кл – К.: Зодіак-ЕКО, 2005. – 319с. §66</p> <p>Топузов О.М., Тименко Л.В. Економічна і соціальна географія світу: Підруч. для 10 кл. загальноосвіт. навч. закладів. – К.: Зодіак-ЕКО, § 14</p>
8	<p>Укажіть течію, що переміщується над Південноатлантичним, Західноіндійським хребтами та Східнотихоокеанським підняттям.</p> <p>Відповідь: Західних вітрів</p>	<p>Скуратович О.Я., Круглик Л.І., Коваленко Р.Р. Загальна географія: підруч. для 6 кл – К.: Зодіак-ЕКО, 2005. – 319с. §23</p> <p>Пестушко В.Ю., Сасихов В.О., Уварова Г.Є. Географія материків і океанів: підруч. для 7 кл. серед.шк. – К.: Абрис, 2003. – 376с. §8</p> <p>Атлас для 7 класу «Географія материків та океанів».</p> <p>ПТ, ДНВП «Картографія»</p>
9	<p>Визначте <u>неправильне</u> твердження про природу материка.</p> <p>Відповідь: Антарктида – найбільшим хижаком є білий ведмідь</p>	<p>Пестушко В.Ю., Сасихов В.О., Уварова Г.Є. Географія материків і океанів: підруч. для 7 кл. серед.шк. – К.: Абрис, 2003. – 376с. §22,30, 49</p>
10	<p>Для якої природної країни Євразії характерні мусонні ліси?</p>	<p>Пестушко В.Ю., Сасихов В.О., Уварова</p>

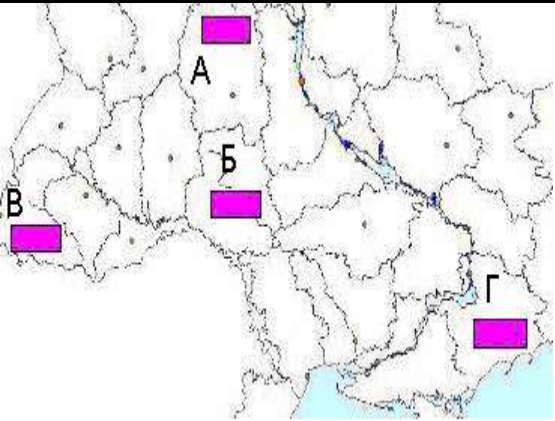
	Відповідь: Східна Азія	Г.Є. Географія материків і океанів: підруч. для 7 кл. серед.шк. – К.:Абрис, 2003. – 376с. §57, 59, 60
11	Укажіть озеро, що є стічним. Відповідь: Ері	Пестушко В.Ю., Сасихов В.О., Уварова Г.Є. Географія материків і океанів: підруч. для 7 кл. загально освіт. навч. закладів. – К.: Освіта, Шкільна освіта, 2003. – 256с. §25, 31, 45, 56 Скуратович О.Я., Круглик Л.І., Коваленко Р.Р. Загальна географія: підруч. для 6 кл – К.: Зодіак-ЕКО, 2005. – 319с. § 18
12	Укажіть правильне твердження про населення материка Австралія. Відповідь: найвищий рівень урбанізації серед усіх материків	Пестушко В.Ю., Сасихов В.О., Уварова Г.Є. Географія материків і океанів: підруч. для 7 кл. серед.шк. – К.:Абрис, 2003. – 376с. § 33, 39 Атлас для 10-11 класів. Економічна і соціальна географія світу, ППТ.





<p>13</p>	<p>На фрагменті космічного знімка Середземномор'я буквами позначені чотири райони. Оберіть букву (А, Б, В чи Г), якою позначений район найінтенсивнішого зрошувального землеробства.</p> <p>Відповідь: В</p>		<p>Пестушко В.Ю., Сасихов В.О., Уварова Г.Є. Географія материків і океанів: підруч. для 7 кл. серед.шк. – К.:Абрис, 2003. – 376с. §25</p> <p>Корнєєв В.П., Герасимчук В.М., Пічугін Б.В. Географія материків і океанів: підруч. для 7 кл. загальноосвіт. навч. закладів. – К.: Освіта, Шкільна освіта, 2003. – 256с с.81 – 82, 89 – 91.</p>
<p>14</p>	<p>На якому материку засновано заповідники: Ноатак, Долина Смерті, Великий Каньйон?</p> <p>Відповідь: Північна Америка</p>	<p>Пестушко В.Ю., Сасихов В.О., Уварова Г.Є. Географія материків і океанів: підруч. для 7 кл. серед.шк. – К.: Абрис, 2003. – 376с. § 42 – 47</p>	
<p>15</p>	<p>Із якою країною Україна має морську ділянку державного кордону.</p> <p>Відповідь: Румунія</p>	<p>«Географія України». Атлас для 8 – 9 класів ДНВП «Картографія» «Географія України». Атлас для 8 – 9 класів Інститут передових технологій.</p>	
<p>16</p>	<p>Розгляньте картосхему. Визначте місцевий час у пункті Л, якщо у пункті К місцевий час складає у цей момент 11 годин 04 хвилини.</p>	<p>Заставний Ф.Д. Фізична географія України. Підруч. для 8 кл. – К.:, 2003, - 239с.</p> <p>Масляк П.О., Шищенко П.Г. Географія України: Підруч. для 8 – 9 кл. серед. шк.</p>	

	<p>Відповідь: 10 год 44 хв</p>		<p>К.: Зодіак-ЕКО, 2004. – 432 с. Чернов Б. В. Фізична географія України, підр для 8 кл, - К.: Освіта, 2002. – 254 с. Гілецький Й.Р. Географія України (Фізична географія з основами загального землезнавства): Підруч. для 8 класу. – Львів: ВНТЛ-Класика, 2003. – 150 с. §4</p>
<p>17</p>	<p>На якій платформі розташований Український кристалічний щит? Відповідь: Східноєвропейська</p>	<p>Заставний Ф.Д. Фізична географія України. Підруч. для 8 кл. – К.:, 2003, - 239с §15</p>	
<p>18</p>	<p>До якої ери відноситься антропогеновий геологічний період? Відповідь: кайнозойська</p>	<p>Гілецький Й.Р. Географія України (Фізична географія з основами загального землезнавства): Підруч. для 8 класу. – Львів: ВНТЛ-Класика, 2003. – 150 с. §11</p>	
<p>19</p>	<p>Яким умовним знаком на карті позначають родовища корисних копалин: Бориславське, Бугруватівське, Долинське Відповідь: ▲</p>	<p>Скуратович О.Я., Круглик Л.І., Коваленко Р.Р. Загальна географія: підруч. для 6 кл – К.: Зодіак-ЕКО, 2005. – 319с. §13 Чернов Б. В. Фізична географія України, підр. для 8 кл, - К.: Освіта, 2002. – 254 с §15</p>	

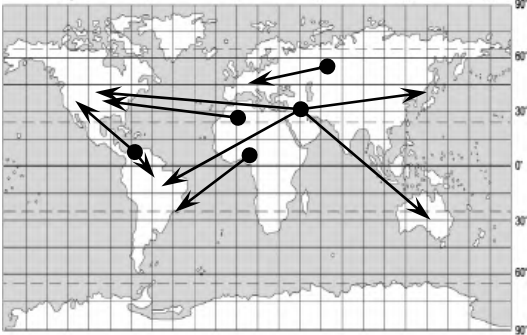
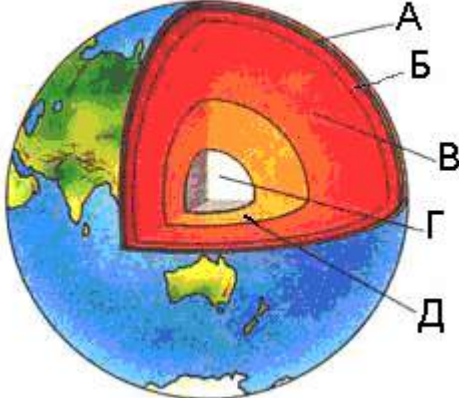
20	<p>Знайдіть <u>неправильне</u> твердження щодо використання метеорологічного приладу.</p> <p>Відповідь: барометром вимірюють випаровуваність</p>	<p>Скуратович О.Я., Круглик Л.І., Коваленко Р.Р. Загальна географія: підруч. для 6 кл – К.: Зодіак-ЕКО, 2005. – 319с.</p>
21	<p>Розгляньте схеми. Визначте, яка із них відображає процес, що формує в Україні взимку мінливу вітряну погоду з відлигами і опадами. Відповідь:</p> 	<p>Пестушко В.Ю., Сасихов В.О., Уварова Г.Є. Географія материків і океанів: підруч. для 7 кл. серед.шк. – К.: Абрис, 2003. – 376с §6</p> <p>Масляк П.О., Шищенко П.Г. Географія України: підруч. Для 8 – 9 кл. серед. шк. К.: Зодіак-ЕКО, 2004. – 432с. «Клімат і кліматичні ресурси»</p> <p>Кобернік С.Г., Скуратович О.Я. Географія материків і океанів: підруч. для 7 кл. загальноосвіт. навч. закладів. – К.: Навчальна книга, 2005 – 319с. §7</p>
22	<p>До басейну якої річки відносяться притоки: Тетерів, Рось, Псел, Інгулець?</p> <p>Відповідь: Дніпро</p>	<p>Заставний Ф.Д. Фізична географія України: підруч. для 8 кл. – К.:, 2003, - 239с., §24</p> <p>Чернов Б.В. Фізична географія України, підруч. Для 8 кл, - к.: Освіта,2002. – 254с., §23</p>
23	<p>Укажіть форму організації виробництва, що має визначення:«поєднання на одному</p>	<p>Дітчук І. Л., Заставецька О. В., Ткач</p>

	<p><i>підприємстві всіх стадій переробки певної сировини, що забезпечує мало- або безвідходність виробництва».</i></p> <p>Відповідь: комбінування</p>	<p>Д.В. Географія України: навч. посібник. – Тернопіль: Навчальна книга – Богдан, 2003, 2006. – 168 с. Тема 3 «Промисловість» с.53</p>
24	<p>Визначте правильний варіант ланцюга «галузь → підприємство → основний чинник розміщення підприємства» для столиці України.</p> <p>Відповідь: машинобудування → авіазавод КНТК «Антонов» → кваліфіковані кадри</p>	<p>Масляк П.О. Економічна і соціальна географія України: підруч.для 9 кл. загально освіт. навч. зал. – Педагогічна преса , 2005. – 288с. с. 234, 239, 151, 123, Заставний Ф.Д. Економічна і соціальна географія України: Підруч. для 9 кл. – К.: Форум, 2003. – 239с. с.90,91</p>
25	<p>Укажіть порт на Азовському морі.</p> <p>Відповідь: Генічеськ</p>	<p>Заставний Ф.Д. Економічна і соціальна географія України: Підруч. для 9 кл. – К.: Форум, 2003. – 239с. §29. Сиротенко А.Й. Економічна і соціальна географія України: Підруч. для 9 кл. загальноосв. навч. закл. – К.: Освіта, 2001. – 222 с. §53 Атлас « Географія України» для 8 – 9 класів Інститут передових технологій, 2003</p>

26	<p>Визначте, який із позначених буквами на картосхемі регіонів України за агрокліматичними умови найбільш придатний для вирощування соняшника.</p> <p>Відповідь: Г</p>		<p>Масляк П.О. Економічна і соціальна географія України: підруч.для 9 кл. загально освіт. навч. зал. – Педагогічна преса , 2005. – 288с §42</p>
27	<p>Укажіть варіант, де обидва виробництва є спеціалізацією Північно-Східного, Донецького та Придніпровського районів.</p> <p>Відповідь: важке машинобудування, металургія</p>	<p>Заставний Ф.Д. Економічна і соціальна географія України: Підруч. для 9 кл. – К.: Форум, 2003. – 239с. §34, 35, 36</p>	
28	<p>Визначте, які транспортні шляхи було прокладено між Львовом і Перемишлем у 1861 р. та між Одесою і Балтою у 1865 р.</p> <p>Відповідь: залізничні колії</p>	<p>Масляк П.О. Економічна і соціальна географія України: підруч.для 9 кл. загально освіт. навч. зал. – Педагогічна преса , 2005. – 288с §46</p>	
29	<p>Укажіть <u>неправильне</u> твердження щодо зовнішньоекономічних зв'язків України.</p> <p>Відповідь: 10% імпорتنих витрат припадає на нафту та природний газ</p>	<p>Заставний Ф.Д. Економічна і соціальна географія України: Підруч. для 9 кл. – К.: Форум, 2003. – 239с. §32</p>	
30	<p>У якому рядку вказані міста, що стали курортами завдяки лікувальним властивостям мінеральних джерел.</p> <p>Відповідь: Слов'янськ, Моршин, Саки</p>	<p>Заставний Ф.Д. Економічна і соціальна географія України: Підруч. для 9 кл. – К.: Форум, 2003. – 239с. §31 Атлас «Географія України» для 8 – 9 класів, ДНВП «Картографія», 2003</p>	


<p>31</p>	<p>На фотографіях зображено визначні об'єкти чотирьох столиць країн світу. Укажіть об'єкт тієї столиці, яка за кількістю населення не є найбільшим містом у своїй країні.</p> <div style="display: flex; justify-content: space-around;"> <div style="text-align: center;">  <p>А</p> </div> <div style="text-align: center;">  <p>Б</p> </div> <div style="text-align: center;">  <p>В</p> </div> <div style="text-align: center;">  <p>Г</p> </div> </div> <p>Відповідь: В</p>	<p>Яценко Б. П. Економічна і соціальна географія зарубіжних країн: Підруч. для 10 кл.– К.: Форум, 2004. – с. 248 с. § 56 Топузов О.М., Тименко Л.В. Економічна і соціальна географія світу: Підруч. для 10 кл. загальноосвіт. навч. закладів. – К.: Зодіак-ЕКО, §29</p>
<p>32</p>	<p>Обчисліть, якою стала кількість населення 100-мільйонної країни через рік, якщо показники руху населення у цьому році були такими: народжуваність – 35 ‰, смертність – 18 ‰, еміграція – 3 ‰, імміграція – 1 ‰.</p> <p>Відповідь: 101,5 млн. осіб</p>	<p>Яценко Б.П. Економічна і соціальна географія зарубіжних країн: Підруч. для 10 кл. – К.: Форум, 2004. – с. 248 с. § 8 Топузов О.М., Тименко Л.В. Економічна і соціальна географія світу: Підруч. для 10 кл. загальноосвіт. навч. закладів. – К.: Зодіак-ЕКО, §5</p>
<p>33</p>	<p>У якому рядку вказано країну, що не входить до складу ЄС? Відповідь: Австрія, Швейцарія, ФРН</p>	<p>Яценко Б.П. Економічна і соціальна географія зарубіжних країн: Підруч. для 10 кл. – К.: Форум, 2004. – с. 248 с. §30</p>
<p>34</p>	<p>Який регіон Росії спеціалізується на нафтовидобутку та нафтопереробці? Відповідь: Західний Сибір</p>	<p>Яценко Б.П. Економічна і соціальна географія зарубіжних країн: Підруч. для 10 кл. К.: Форум, 2004. – с. 248 с. § 41</p>
<p>35</p>	<p>Укажіть, завдяки якому чиннику хімічна промисловість США, Японії, ФРН знаходиться в авангарді світового господарства.</p>	<p>Яценко Б.П. Економічна і соціальна географія зарубіжних країн: Підруч. для 10 кл.–</p>


	Відповідь: високий рівень розвитку науково-дослідної бази	К.: Форум, 2004. – с. 248 с. . §18, 31,48, 55
36	Визначте <u>неправильне</u> твердження щодо лідерства країни в Латинській Америці. Відповідь: Еквадор – за імпортом бананів	Яценко Б.П. Економічна і соціальна географія зарубіжних країн: Підруч. для 10 кл. – К.: Форум, 2004. – с. 248 с. §59
37	Країна, природні умови якої дозволяють вирощувати в промислових масштабах цукровий буряк і цукрову тростину. Відповідь: США.	Яценко Б.П. Економічна і соціальна географія зарубіжних країн: Підруч. для 10 кл. . – К.: Форум, 2004. – с. 248 с. §55
38	У якому рядку вказані курорти Африки. Відповідь: Хургада, Шарм-ель-Шейх, Сейшельські острови.	Яценко Б.П. Економічна і соціальна географія зарубіжних країн: Підруч. для 10 кл. – .К.: Форум, 2004. – с. 248 §15 Економічна і соціальна географія. Атлас для 10-11 класів Інститут передових технологій .

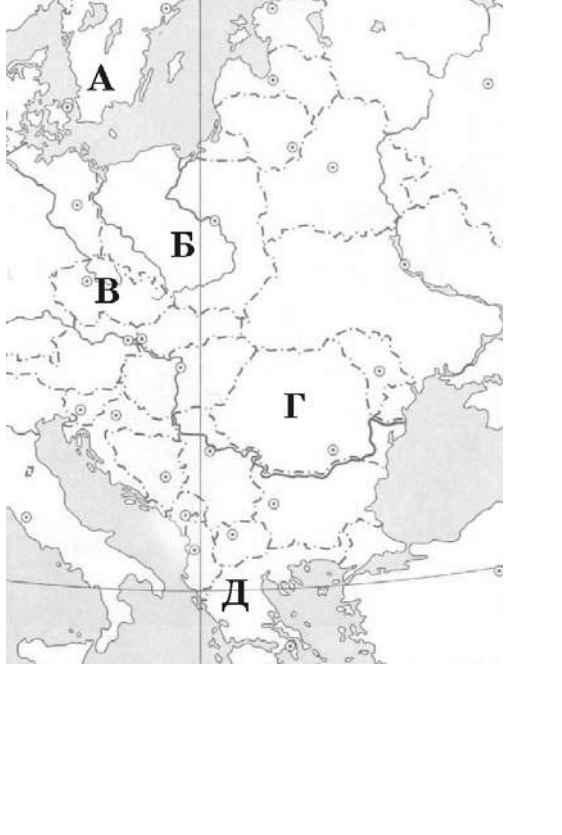
39	<p>На картосхемі зображені головні напрямки міжнародних вантажопотоків</p> <p><i>Відповідь:</i> нафти</p>		<p>Яценко Б.П. Економічна і соціальна географія зарубіжних країн: Підруч. для 10 кл. – К.: Форум, 2004. – с. 248 с. §21, Економічна і соціальна географія світу Атлас для 10-11 класів</p>
40	<p>Укажіть державу, на території якої знаходяться визнані ЮНЕСКО об'єкти культурно-історичної спадщини: храм Сонця в Конараку, мавзолей Тадж-Махал.</p> <p><i>Відповідь:</i> Індія.</p>		<p>Яценко Б.П. Економічна і соціальна географія зарубіжних країн: Підруч. для 10 кл. – К.: Форум, 2004. – с. 248 с. § 50</p>
<p>У завданнях 41 – 50 до кожного з чотирьох рядків інформації позначених цифрами, необхідно вибрати один правильний варіант, що позначений буквою.</p>			
41	<p>Установіть відповідність між шарами внутрішньої будови Землі та буквами, якими вони позначені на малюнку.</p> <p><i>Відповідь:</i> астеносфера – Б земна кора – А внутрішнє ядро – Г мантія – В</p>		<p>Скуратович О.Я., Круглик Л.І., Коваленко Р.Р. Загальна географія: підруч. для 6 кл – К.: Зодіак-ЕКО, 2005. – 319с. §10</p>
42	<p>Установіть відповідність між типами клімату та кліматограмами.</p>		<p>Пестушко В.Ю., Сасихов В.О., Уварова Г.Є. Географія материків і океанів:</p>

	<p>Відповідь: субтропічний середземноморський Північної півкулі – Г морський помірний Північної півкулі – В субекваторіальний Південної півкулі – А тропічний пустельний Північної півкулі – Б</p> 	<p>підруч. для 7 кл. серед.шк. – К.: Абрис, 2003. – 376с. §6, 7 Атлас для 7 класу «Географія материків та океанів». Інститут передових технологій</p>
<p>43</p>	<p>Установіть відповідність між назвами творів, де подано географічний опис України та часом їхнього написання.</p> <p>Відповідь: «Географія» в 17-и томах грецького мислителя Страбона – І ст. до н. е.</p> <p>«Труди етнографіческо-статистической експедиції въ Западно-Русській край» етнографа Павла Чубинського – 1872 – 1879 рр.</p> <p>«Українська географічна енциклопедія» у 3-х томах (за редакцією члена-кореспондента НАН України, географа Олександра Маринича) – 1989 – 1993 рр.</p> <p>«Географія України і сумежних земель» картографа Володимира Кубійовича – 1932 р.</p>	<p>Кобернік С.Г., Скуратович О.Я. Географія материків і океанів: Підруч. для 7 кл. загальноосвіт. навч. закладів. – К.: Навчальна книга, 2005. – 319 с. Гілецький Й.Р. Географія України (Фізична географія з основами загального землезнавства): Підруч. для 8 класу. – Львів: ВНТЛ-Класика, 2003. – 150 с. §4 Корнев В. П., Герасимчук В. М., Пічугін Б. В. Географія материків і океанів: підруч. для 7 кл. загальноосвіт. навч. закладів. – К.: Освіта, Шкільна освіта, 2003. – 256с. с.5 – 6</p>
<p>44</p>	<p>Знайдіть відповідність між рівнинами на території України та формами земної поверхні, що характерні для цих рівнин.</p> <p>Відповідь: Поліська низовина – моренні горби</p>	<p>Чернов Б.В. Фізична географія України, підруч. Для 8 кл, - к.:Освіта,2002. – 254с. §12</p>

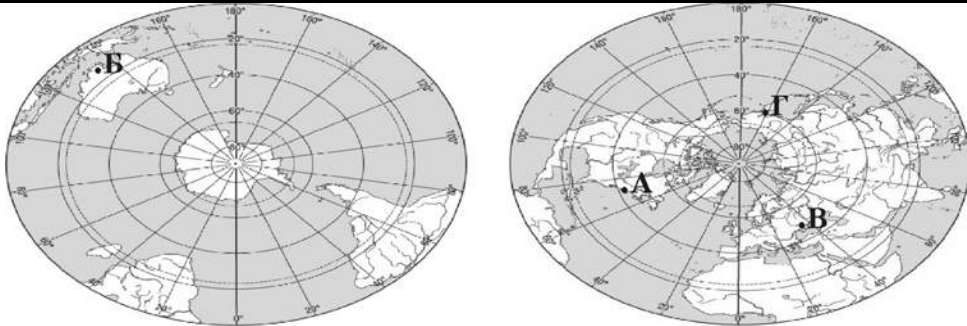
	<p>Придніпровська низовина – соляні куполи Донецька височина – терикони Причорноморська низовина – поди, блюдця</p>	<p>Сиротенко А.Й. Економічна і соціальна географія України: Підруч. для 9 кл. загальноосв. навч. закл. – К.: Освіта, 2001. – 222 с. §14 Атлас «Географія України» для 8 – 9 класів ДНВП «Картографія»</p>
--	---	---

<p>45</p>	<p>Розгляньте космічний знімок. Установіть відповідність між інформацією про певні акваторії (позначені цифрами), та акваторіями (позначена на космічному знімку буквами).</p> <p>Відповідь: біля берегів України улітку тут найтепліша вода, проте взимку море в цьому районі може замерзати – Б солоність води в цьому районі вища 18‰ – Г шельфова зона тут вузька, глибини моря швидко збільшуються неподалік від від берега – В червону водорість (філофору) збирають тут у великій кількості – А</p>		<p>Заставний Ф.Д. Фізична географія України. Підруч. для 8 кл. – К.:, 2003, - 239с. § 28</p> <p>Чернов Б.В. Фізична географія України, підруч. Для 8 кл, - к.:Освіта,2002. – 254с. §48, 49</p>
------------------	---	--	--

<p>46</p>	<p>Відповідь: Установіть відповідність між національними меншинами України та районами їхнього компактного проживання, що позначені на картосхемі буквами. Відповідь: болгари – Д кримські татари – Г угорці – Б поляки – А</p>		<p>Сиротенко А.Й. Економічна і соціальна географія України: Підруч. для 9 кл. загальноосв. навч. закл. – К.: Освіта, 2001. – 222 с. §6 Масляк П.О. Економічна і соціальна географія України: підруч.для 9 кл. загально освіт. навч. зал. – Педагогічна преса , 2005. – 288с §11</p>
<p>47</p>	<p>Установіть відповідність між назвами атомних станцій та їхніми містами – супутниками Відповідь: Хмельницька – Нетішин Рівненська – Кузнецовськ Запорізька – Енергодар Південноукраїнська –Южноукраїнськ</p>	<p>Заставний Ф.Д. Економічна і соціальна географія України: Підруч. для 9 кл. – К.: Форум, 2003. – 239с. §15</p>	

<p>48</p>	<p>Установіть відповідність між областями України та туристськими об'єктами розташованими в них. Відповідь: Тернопільська – печера «Кришталева» Івано-Франківська – г.Говерла Черкаська – Дендропарк «Софіївка» Волинська – Луцький замок</p>	<p>Масляк П.О. Економічна і соціальна географія України: підруч.для 9 кл. загально освіт. навч. зал. – Педагогічна преса , 2005. – 288с §46</p> <p>Сиротенко А.Й. Економічна і соціальна географія України: Підруч. для 9 кл. загальноосв. навч. закл. – К.: Освіта, 2001. – 222 с. §53</p>	
<p>49</p>	<p>Розгляньте картосхему. Установіть відповідність між інформацією, що характеризує ту чи іншу державу, та державами, що позначені на карті буквами. Відповідь: населення країни утворює окрему групу індоєвропейської мовної сім'ї; панівною є православна віра; столиця – одне з найдавніших міст світу – Д</p> <p>у країні переважає гірський рельєф; її територією протікає друга за довжиною річка Європи; 49 % населення зайнято в промисловості – Г</p> <p>країна - член ЄС, але не входить до НАТО; багата на лісові ресурси; виробляє автомобілі «Вольво»; населення мешкає переважно на півдні країни – А</p> <p>країна з населенням 38,6 млн. осіб; експортує вугілля, мідь, продукцію машинобудування й АПК; має значний</p>		<p>Яценко Б.П. Економічна і соціальна географія зарубіжних країн: Підруч. для 10 кл. . – Прок-Бізнес, 2004 §6, 10, 20, 28, 30</p> <p>Атлас для 10 – 11 класів. «Економічна і соціальна географія світу»ДНВП «Картографія» 2003-2007рр.</p>

	товарообіг з Україною (>1 млрд. доларів США) – Б	
50	<p>Установіть відповідність між назвами міжнародних організацій та наведеними про них фактами.</p> <p>Відповідь: ООН – серед членів-засновників організації була Україна (на той час УРСР); НАФТА – об'єднує США, Канаду, Мексику для реалізації угоди про зону вільної торгівлі; СОТ – економічна організація (понад 150 країн-членів), що регулює правила міжнародної торгівлі. ОПЕК – організація країн, що є експортерами нафти.</p>	Яценко Б.П. Економічна і соціальна географія зарубіжних країн: Підруч. для 10 кл. – Прок-Бізнес, 2004 §6, 20
У завданнях 51 – 60 необхідно розташувати запропоновані факти у правильній послідовності.		
51	<p>Розташуйте географічні об'єкти в тій послідовності, в якій вони були відкриті європейцями.</p> <p>Відповідь: мис Доброї Надії – Магелланова протока – Нова Зеландія – Антарктичний півострів</p>	<p>Скуратович О.Я., Круглик Л.І., Коваленко Р.Р. Загальна географія: підруч. для 6 кл – К.: Зодіак-ЕКО, 2005. – 319с. § 2</p> <p>Пестушко В.Ю., Сасихов В.О., Уварова Г.Є. Географія материків і океанів: підруч. для 7 кл. серед.шк. – К.: Абрис, 2003. – 376с. § 21, 30, 40</p>
52	<p>Розташуйте позначені на обох півкулях буквами географічні об'єкти в порядку настання в цих точках нової доби</p> <p>Відповідь: Г – Б – В – А</p>	Скуратович О.Я., Круглик Л.І., Коваленко Р.Р. Загальна географія: підруч. для 6 кл – К.: Зодіак-ЕКО, 2005. – 319с.

			
53	<p>Розташуйте послідовно назви водних мас Індійського океану (від острова Ява до берегів Антарктиди).</p> <p>Відповідь: екваторіальні – тропічні – помірні – полярні</p>	<p>Пестушко В.Ю., Сасихов В.О., Уварова Г.Є. Географія материків і океанів: підруч. для 7 кл. серед.шк. – К.:Абрис, 2003. – 376с. §8</p> <p>Географія материків і океанів. Атлас для 7 класу ДНВП «Картографія»</p>	
54	<p>Розташуйте послідовно (з півночі на південь) природні зони Східноєвропейської рівнини.</p> <p>Відповідь: тайга – мішані ліси – лісостеп – степ</p>	<p>Пестушко В.Ю., Сасихов В.О., Уварова Г.Є. Географія материків і океанів: підруч. для 7 кл. серед.шк. – К.: Абрис, 2003. – 376с. §57,58</p>	
55	<p>Розташуйте послідовно одиниці регіональної класифікації ландшафтів України починаючи від найбільшої за рангом.</p> <p>Відповідь: країна – зона – край – область</p>	<p>Чернов Б.В. Фізична географія України, підруч. для 8 кл, - к.:Освіта,2002. – 254с §31</p> <p>Заставний Ф.Д. Фізична географія України.Підруч. для 8 кл. – К.:, 2003, - 239с. §37</p> <p>Шищенко П.Г., Муніч Н.В. Фізична географія України: Підруч. для 8 кл. загальноосвіт. навч. закл. – К.: Зодіак – ЕКО, 2005. – 256 с. §41</p> <p>Атлас</p>	
56	<p>Установіть послідовність перетину природних областей Українських Карпат, якщо рухатися у напрямку з північного сходу на південний захід</p>	<p>Заставний Ф.Д. Фізична географія</p>	

	<p>Відповідь: Зовнішньокарпатська – Вододільно-Верховинська – Полонинсько-Чорногірська – Вулканічно-Карпатська.</p>	<p>України. Підруч. для 8 кл. – К.:, 2003, - 239с. §37</p> <p>Шищенко П.Г., Муніч Н.В. Фізична географія України: Підруч. для 8 кл. загальноосвіт. навч. закл. – К.: Зодіак – ЕКО, 2005. – 256 с. §48</p>																				
57	<p>Розташуйте послідовно види транспорту України за показником вантажообігу (починаючи від найменшого).</p> <p>Відповідь: річковий – автомобільний – залізничний – трубопровідний</p>	<p>Заставний Ф.Д. Економічна і соціальна географія України: Підруч. для 9 кл. – К.: Форум, 2003. – 239с §28-30.</p> <p>Масляк П.О. Економічна і соціальна географія України: підруч.для 9 кл. загально освіт. навч. зал. – Педагогічна преса , 2005. – 288с §48</p>																				
58	<p>Розташуйте країни за показником ВВП на душу населення, починаючи від найменшого.</p> <p>Відповідь: Ефіопія – Китай – Польща – Канада.</p>	<p>Яценко Б.П. Економічна і соціальна географія зарубіжних країн: Підруч. для 10 кл. – Прок-Бізнес, 2004 §5, 65</p> <p>Атлас «Економічна і соціальна географія світу»ДНВП «Картографія» 2003-2007рр.</p>																				
59	<p>Обчисліть середню густоту (щільність) населення країн зазначених у таблиці. Розташуйте їх послідовно від найбільшого до найменшого показника.</p> <table border="1" data-bbox="394 1083 1368 1310"> <thead> <tr> <th></th> <th>Країна</th> <th>Кількість населення (млн. осіб)</th> <th>Площа (тис.км²)</th> </tr> </thead> <tbody> <tr> <td>А</td> <td>Індія</td> <td>1092</td> <td>3288</td> </tr> <tr> <td>Б</td> <td>Бразилія</td> <td>186</td> <td>8512</td> </tr> <tr> <td>В</td> <td>Нідерланди</td> <td>16,5</td> <td>41,9</td> </tr> <tr> <td>Г</td> <td>Єгипет</td> <td>79</td> <td>1001</td> </tr> </tbody> </table> <p>Відповідь: Нідерланди —Індія – Єгипет –Бразилія.</p>		Країна	Кількість населення (млн. осіб)	Площа (тис.км ²)	А	Індія	1092	3288	Б	Бразилія	186	8512	В	Нідерланди	16,5	41,9	Г	Єгипет	79	1001	<p>Яценко Б.П. Економічна і соціальна географія зарубіжних країн: Підруч. для 10 кл. . – Прок-Бізнес, 2004 §8</p> <p>Атлас «Економічна і соціальна географія світу»ДНВП «Картографія» 2003-2007рр.</p>
	Країна	Кількість населення (млн. осіб)	Площа (тис.км ²)																			
А	Індія	1092	3288																			
Б	Бразилія	186	8512																			
В	Нідерланди	16,5	41,9																			
Г	Єгипет	79	1001																			

<p>60</p>	<p>Установіть у хронологічній послідовності події (починаючи від від найдавнішої), наслідком яких є антропогенні зміни в природі.</p> <p>Відповідь: початок переселення із Америки Європу рослин-ендемів, що стали поширеними сільськогосподарськими культурами – початок переселення тварин із Європи в Австралію, що стало справжнім лихом для місцевої фауни–початок будівництва каскаду водосховищ на Дніпрі, що призвело до втрати значних площ родючої землі – прийняття законів України «Про охорону навколишнього середовища» та «Про зону надзвичайної екологічної ситуації», спрямованих на поліпшення екологічної ситуації в державі</p>	<p>Пестушко В.Ю., Сасихов В.О., Уварова Г.Є. Географія материків і океанів: підруч. для 7 кл. серед.шк. – К.:Абрис, 2003. – 376с. §32,34</p> <p>Шищенко П.Г., Муніч Н.В. Фізична географія України: Підруч. для 8 кл. загальноосвіт. навч. закл. – К.: Зодіак – ЕКО, 2005. – 256 с. §57</p> <p>Масляк П.О. Економічна і соціальна географія України: підруч.для 9 кл. загально освіт. навч. зал. – Педагогічна преса , 2005. – 288с §24,</p> <p>Яценко Б.П. Економічна і соціальна географія зарубіжних країн: Підруч. для 10 кл. . – Прок-Бізнес, 2004.</p>
------------------	--	--